



کد محصول  
ES635



آخرین بروزرسانی  
۲۶ شهریور ۱۴۰۴

## سوالات استخدامی

# بانک کشاورزی

✓ مطابق با منابع اعلام شده آزمون استخدامی ۱۴۰۴

✓ نسخه رایگان شامل ۲۹۵ سوال (تعداد کمتر و تنها برخی دارای پاسخ)

✓ برای تهیه نسخه اصلی، با ۱۲۹۰ سوال به همراه پاسخنامه تشریحی، به سایت ایران عرضه مراجعه نمایید.



## لینک های مفید آزمون استخدامی بانک کشاورزی

خرید این محصول	سوالات رایگان بانک ها با پاسخنامه
خرید سوالات استخدامی ۱۰ سال اخیر	خرید درسنامه دروس عمومی
خرید سوالات عمومی بانک ها	خرید درسنامه بانکداری
خرید سوالات تخصصی بانک ها	منابع آزمون
اخبار آزمون	شبکه های اجتماعی ایران عرضه (فایل های رایگان + تخفیفات هفتگی + اخبار)
(برای مشاهده هر بخش روی آن بزنید  )	
<b>آخرین بروزرسانی ها:</b> ۱۴۰۴/۰۶/۲۶ تالیف مجدد محصول	

## فهرست مطالب

- ❖ فصل اول: سوالات معارف اسلامی - صفحه ۴ (۱۵ سوال)
- ❖ فصل دوم: سوالات زبان و ادبیات فارسی - صفحه ۷ (۱۵ سوال)
- ❖ فصل سوم: سوالات اطلاعات عمومی و دانش اجتماعی - صفحه ۱۰ (۱۵ سوال)
- ❖ فصل چهارم: سوالات قوانین و مقررات اداری و قانون اساسی - صفحه ۱۲
- < بخش اول: قوانین و مقررات اداری (۱۵ سوال)
- < بخش دوم: قانون اساسی (۱۵ سوال)
- ❖ فصل پنجم: سوالات ریاضی و آمار مقدماتی - صفحه ۱۷ (۱۵ سوال)
- ❖ فصل ششم: سوالات توانمندی های ذهنی و ویژگی های رفتاری - صفحه ۱۹ (۱۵ سوال)
- ❖ فصل هفتم: سوالات زبان انگلیسی عمومی - صفحه ۲۴ (۱۵ سوال)
- ❖ فصل هشتم: سوالات مهارت های فناوری اطلاعات - صفحه ۲۶ (۱۵ سوال)
- ❖ فصل نهم: سوالات عمومی ادوار گذشته آزمون های استخدامی بانک ها، فراگیر و سازمان های دولتی - صفحه ۲۹ (۱۶۰ سوال)

در هر بخش، تنها ۱ سوال ابتدایی دارای پاسخنامه تشریحی می باشد. در صورت تمایل به دریافت سوالات بیشتر با جواب تشریحی می توانید این محصول را از سایت ایران عرضه خریداری نمایید.

خرید محصول

## ❖ فصل اول: سوالات معارف اسلامی با پاسخنامه تشریحی

۱- حدیث «دعوت کننده مردم باشید اما ه با زبان، بلکه با پارسایی، تلاش، نماز و نیکی که این رفتارها خود دعوت کننده هستند.» به کدام مفهوم اشاره دارد؟ (آزمون تامین اجتماعی سال ۱۳۹۳)

(۱) مؤثرترین راه فراخوانی به خیر و نیکی دعوت غیرزبانی است.

(۲) مؤثرترین راه فراخوانی به خیر و نیکی دعوت عملی است.

(۳) دعوت به خیر و نیکی قبل از امر به معروف می باشد.

(۴) دعوت به خیر و نیکی در شخص موجب تعهد می شود.

❑ پاسخ سایت ایران عرضه: گزینه ۲ ← زیرا انسانی که قرار است مورد دعوت به خیر و نیکی قرار بگیرد؛ ابتدا به کردار و رفتار انسان دعوت کننده نگاه میکند.

۲- اگر نمازگذار بداند در لباسش نخ یا دکمه یا چیز دیگری غصبی است و نماز بخواند ، ..... (آزمون تامین اجتماعی سال ۱۳۹۳)

(۱) باید آن نماز را با لباس غیرغصبی اعاده نماید.

(۲) بهتر است آن نماز را با لباس غیر غصبی اعاده نماید.

(۳) بنا به احتیاط مستحب، نمازش باطل است و باید اعاده نماید.

(۴) چون مقدارش کم است، نماز خواندن با آن بلااشکال است.

۳- آیه شریفه (و ان علیکم الاحفاظین کراماً کاتبین یعلمون ما تفعلون) اشاره به کدام یک از شاهدان و گواهان روز حساب و در کدام مرحله از قیامت دارد؟ (آزمون تامین اجتماعی سال ۱۳۹۳)

(۱) پیامبران و ائمه معصومین - اول (۲) پیامبران و ائوه معصومین - دوم

(۳) فرشتگان و مأموران الهی - اول (۴) فرشتگان و مأموران الهی - دوم

۴- مضاربه، به کدام معنی است؟ (آزمون تامین اجتماعی سال ۱۳۹۳)

(۱) اجیرنمودن کسی برای تجارت و مزد دادن به اجیر.

(۲) شریک شدن با دیگران برای تجارت به طور مساوی.

(۳) مالی برای تجارت در اختیار دیگری نهادن و در سود و زیان آن شریک شدن.

(۴) زمین یا باغی را در اختیار غیرنهادن و در سود و زیان آن شریک بودن

۵- غیبت صغرای امام عصر(عج) در کدام سال پایان یافت و علت اصلی این غیبت، کدام است؟ (آزمون تأمین اجتماعی سال ۱۳۹۳)

(۱) ۳۲۹ ه.ق - خود مردم که شایستگی ظهور امام را ندارند.

(۲) ۲۶۰ ه.ق - خود مردم که شایستگی ظهور امام را ندارند.

(۳) ۲۶۰ ه.ق - حاکمان جور که مردم را از ظهور مایوس کردند

(۴) ۳۲۹ ه.ق - حامان جور که مردم را از ظهور ایشان مایوس می‌کنند.

۶- هدایت ویژه الهی در مورد انسان، به دلیل کدام یک از خصوصیات زیر می‌باشد؟ (آزمون تأمین اجتماعی سال ۱۳۹۳)

(۱) روح و فطرت (۲) روح و عقل (۳) عقل و اختیار (۴) فطرت و غریزه

۷- مطابق کدام مورد وجود پیامبر گرامی اسلام (ص) واسطه همه خیرات و برکات مادی و معنوی به انسان‌هاست؟ (آزمون تأمین اجتماعی سال ۱۳۹۳)

(۱) مرجعیت دینی (۲) علم و عصمت (۳) ولایت معنوی (۴) ولایت ظاهری

۸- درک فقر و نیازمندی انسان نسبت به خداوند، کدام مورد را به ارمغان می‌آورد؟ (آزمون بانک سپه سال ۱۳۹۳)

(۱) قوی تر و بیشتر شدن بندگی و عبودیت در پیشگاه باری تعالی

(۲) فقیر بودن نسبت به خداوند، غنی بودن نسبت به انسان های دیگر

(۳) احساس نیاز بیشتر به کسب کمالات در مقایسه با انسان های دیگر

(۴) غنی بودن نسبت به انسان های دیگر و کمالاتش نسبت به سایر موجودات

۹- بی توجهی به عفاف و پاکدامنی، از گناهای است که نیازمند به توبه ..... دارد و طریق تحقق آن، عمل به فریضه ..... می‌باشد. (آزمون بانک سپه سال ۱۳۹۳)

(۱) فردی - جهاد اکبر یا مبارزه با خود دانی

(۲) اجتماعی - جهاد اکبر یا مبارزه بل خود دانی

(۳) فردی- امر به معروف و نهی از منکر

(۴) اجتماعی - امر به معروف و نهی از منکر

۱۰- چیز پاکی که انسان شک دارد نجس شده یا نه، چه حکمی دارد؟ (آزمون بانک سپه سال ۱۳۹۳)

(۱) نجس است (۲) محل تامل است (۳) پاک است (۴) احتیاط کند

۱۱- بیت زیر، خطاب به چه کسی است؟ (آزمون بانک سپه سال ۱۳۹۳)

«نفس هر دم در درونت در کمین از همه مردم بثر در مکر و کین»

(۱) افرادی که برای توجیه گناه خود، به دنبال عامل بیرونی هستند

(۲) افرادی که برای توجیه گناه خود، به دنبال عامل درونی هستند

۳) مردمی که از خود غافل اند و نفس اماره را در خود پرورش می دهند

۴) مردمی که از نفس اماره متنفر شده اند و به دنبال وجدان اخلاقی هستند

۱۲- پاداش و کیفر در روز حساب، به کدام صورت برای انسان محقق می شود؟ (آزمون بانک سپه سال ۱۳۹۳)

۱) نتیجه طبیعی اعمال      ۲) جنبه غیبی اعمال

۳) جنبه ظاهری اعمال      ۴) اجرای قوانین و مقررات

۱۳- وقتی که در اثبات معاد از «قدرت نامحدود خداوند» و «حکمت الهی» سخن می گوئیم به ترتیب به کدام یک از موارد

زیر اشاره کرده ایم؟ (آزمون بانک سپه سال ۱۳۹۳)

۱) جسمانی بودن معاد - ضرورت معاد      ۲) جسمانی بودن معاد - جسمانی بودن معاد

۳) ضرورت معاد - جسمانی بودن معاد      ۴) ضرورت معاد - ضرورت معاد

۱۴- بنا بر فرمان الهی، اطاعت از خدا و پیامبر (ص) و جانشینان رسول گرامی اسلام، لازمه کدام قسم از توحید است؟ (آزمون

بانک سپه سال ۱۳۹۳)

۱) توحید در خالقیت      ۲) توحید در ربونیت

۳) توحید در عبادت      ۴) توحید در ولایت

۱۵- عدم تایید حاکمان و آگاهی بخشی به مردم، به ترتیب ناظر بر کدام مسئولیت ائمه اطهار (ع) می باشد؟ (آزمون ثبت

اسناد سال ۱۳۹۳)

۱) مجاهده در راستای ولایت ظاهری- مجاهده در راستای ولایت ظاهری

۲) مجاهده در راستای ولایت ظاهری- معرفی خود به عنوان امام بر حق

۳) اقدامات مربوط به مرجعیت دینی- معرفی خود به عنوان امام بر حق

۴) اقدامات مربوط به مرجعیت دینی- اقدامات مربوط به مرجعیت دینی



## ❖ فصل دوم: سوالات زبان و ادبیات فارسی

۱- از نظر نگارش فارسی، به کاربردن کدام کلمه، درست است؟ (آزمون تأمین اجتماعی - ۱۳۹۳)

- (۱) پیشنهادات (۲) تأثیرات (۳) فرمایشات (۴) گزارشات

❑ پاسخ سایت ایران عرضه: گزینه ۲ «ات» علامت جمع عربی است و اسم های فارسی نمی توانند با «ات» جمع شوند.

تأثیر (از ریشه ی اثر) واژه ای عربی ست و جمع آن با «ات» صحیح است.

در گزینه های دیگر واژه ها فارسی ست. همچنین املای واژه ی گزارش با «ذ» غلط است.

۲- در عبارت زیر، قبل از «باشکوه و عظمتی» کدام نشانه را باید گذاشت؟ (آزمون تأمین اجتماعی - ۱۳۹۳)

«غروب ده در کویر با شکوه و عظمتی به یادماندنی فرا می رسد.»

- (۱) دو نقطه (۲) نقطه (۳) نقطه ویرگول (۴) ویرگول

۳- وزن شعری در کدام مورد، با دیگر گزینه ها متفاوت است؟ (آزمون تأمین اجتماعی - ۱۳۹۳)

- (۱) به کمند سر زلفت نه من افتادم و بس  
(۲) پیرزنی را ستمی درگرفت  
(۳) خانه من جست که خونی کجاست؟  
(۴) کای ملک آرم تو کم دیده ام
- که به هر حلقه زلف تو گرفتاری هست  
دست زد و دامن سنجر گرفت  
ای شه! از این بیش زبونی کراست؟  
وز تو همه ساله ستم دیده ام

۴- ساختمان واژه در گروه کلمات زیر، به ترتیب کدام است؟ (آزمون تأمین اجتماعی - ۱۳۹۳)

«بیابان - دردمند - بهاره - دانشسرا»

- (۱) مشتق - مرکب - مشتق - مرکب  
(۲) ساده - مشتق - مشتق - مرکب  
(۳) ساده - مشتق - مشتق - مرکب  
(۴) ساده - مرکب - مشتق - مرکب

۵- در کدام یک از ابیات زیر، «آرایه تلمیح» به کار نرفته است؟ (آزمون تأمین اجتماعی - ۱۳۹۳)

- (۱) به مهلتی که سپهرت دهد ز راه مرو  
(۲) شنیده ام سخنی خوش که پیر کنعان گفت  
(۳) که گفت حافظ از اندیشه تو باز آمد  
(۴) گره به باد مزین گرچه بر مراد رود
- تو را که گفت که این زال، ترک دستان گفت  
فراق یار نه آن می کند که بتوان گفت  
من این نگفته ام آن کس که گفت بهتان گفت  
که این سخن به مثل باد با سلیمان گفت

۶- با توجه به بیت زیر، معنی کلمات «تا - نوا» به ترتیب کدام است؟ (آزمون تأمین اجتماعی - ۱۳۹۳)

«تا لشکر غمت نکند ملک دل خراب جان عزیز خود به نوا می فرستمت»

- (۱) آگاه باش - شعر و غزل  
(۲) برای اینکه - آواز  
(۳) تا وقتی که - گروگان  
(۴) برای اینکه - گروگان

۷- «برکشیدن» در عبارت زیر، به کدام معنی است؟ (آزمون تأمین اجتماعی - ۱۳۹۳)

«یعقوب آن قوم را که بدو تقرب کرده بودند، فرو گرفت و هرچه داشتند بستد و براند و این سه تن برکشید و اعتمادها کرد

در اسباب ملک»

(۱) زندانی نمود (۲) به پایگاه بلند رسانید

(۳) اعدام کرد (۴) احضار کرد

۸- مفهوم بیت زیر، با کدام مورد ارتباط معنایی دارد؟ (آزمون تأمین اجتماعی - ۱۳۹۳)

«ز خاک آفریدت خداوند پاک پس ای بنده افتادگی کن چو خاک»

(۱) به بد گفتن خلق، چون دم زدی اگر راست‌گویی سخن هم، بدی

(۲) تو گر شکر کردی که با دیده‌ای وگرنه تو هم چشم پوشیده‌ای

(۳) نداند کسی قدر روز خوشی مگر روزی افتد به سختی کشی

(۴) طریقت جز این نیست درویش را که افکنده دارد تن خویش را

۹- معنی صحیح عبارت زیر، در کدام مورد آورده شده است؟ (آزمون تأمین اجتماعی - ۱۳۹۳)

«دمنه گفت: همچنین است، و فرط اکرام ملک این بطر بدو را داده است.»

(۱) دمنه گفت: چنین است و زیادی بزرگداشت پادشاه، باعث بی‌باکی و گردن‌کشی او شده است.

(۲) دمنه گفت: چنین است و کوتاهی پادشاه در گرمی داشت او، باعث ناخوشی‌اش گردیده است.

(۳) دمنه گفت: این شبیه است به اکرام پادشاه، وقتی او را در خوشی غرق می‌بینید.

(۴) دمنه گفت: چنین است و بخشندگی پادشاه، باعث خجالت او گردیده.

۱۰- دفتر شعری و ادبی «تو را ای کهن بوم و بر دوست دارم»، سروده کدام شاعر معاصر است؟ (آزمون تأمین اجتماعی - ۱۳۹۳)

(۱) اخوان ثالث (۲) سلمان هراتی (۳) شفیعی کدکنی (۴) هوشنگ ابتهاج

۱۱- با توجه به فرم و صورت غزل، کدام یک از موارد زیر می‌تواند بیت آغازین این قالب باشد؟ (آزمون تأمین اجتماعی - ۱۳۹۳)

(۱) با شه ایران ز آزادی سخن گفتن خطاست کار ایران با خداست

(۲) جز نام چیز دیگر ماند در این جهان یا نام نیز می‌رود از یاد روزگار

(۳) کی شعر برانگیزند خاطر که حزین باشد یک نکته از این معنی گفتیم و همین باشد.

(۴) محتسب مستی به ره دید و گریبانش گرفت مست گفت ای دوست این پیراهن است افسار نیست

۱۲- معنای کلمه‌های زیر، به ترتیب کدام است؟ (آزمون تأمین اجتماعی - ۱۳۹۳)

«دیر، پس افکند، دهشت، ستردن»

(۱) عبادتگاه، دورافتاده، حیرت، زیرپا گذاشتن (۲) مسجد، میراث، سختی، تمیزدادن

(۳) مسجد، عقب‌مانده، خشم، پایمال کردن (۴) صومعه، میراث، حیرت، پاک کردن



۱۳- صورت املایی کدام یک از موارد زیر صحیح است؟ (آزمون تامین اجتماعی - ۱۳۹۳)

- (۱) بحبوحه (۲) دیده‌گان (۳) سپاس گذار (۴) مأخز و منابع

۱۴- مفهوم کدام بیت، «پرهیز از جاه دنیوی و بی‌اعتنایی به نام و ننگ» است؟ (آزمون تامین اجتماعی - ۱۳۹۳)

- (۱) هر سر موی مرا با تو هزاران کار است  
(۲) مرید پیر مغانم ز من مرنج ای شیخ  
(۳) حافظ ار بر صدر ننشیند ز عالی مشربی است  
(۴) زاهد شراب کوثر و حافظ پیاله خواست
- ما کجاییم و ملامت گر بیکار کجاست؟  
چرا که وعده تو کردی و او به‌جا آورد  
عاشق دُردی‌کش اندر بند مال و جاه نیست  
تا در میانه خواسته کردگار چیست

۱۵- مفهوم کدام بیت، «پرهیز از جاه دنیوی و بی‌اعتنایی به نام و ننگ» است؟ (آزمون تامین اجتماعی - ۱۳۹۳)

«زنده برگشتن ز کوی دوست شرط عشق نیست»

- (۱) زنده برگشتن (۲) شرط عشق (۳) شرط عشق نیست (۴) کوی دوست



## ❖ فصل سوم: سوالات اطلاعات عمومی و دانش اجتماعی

۱- در جلسه هیئت دولت و با حضور رئیس‌جمهور، کدام یک از موارد زیر، حق رأی نخواهد داشت؟ (آزمون تامین اجتماعی سال ۱۳۹۳)

(۱) معاون اول رئیس‌جمهور (۲) رئیس سازمان صدا و سیما

(۳) رئیس بانک مرکزی (۴) رئیس بانک مرکزی و رئیس سازمان صدا و سیما

❑ پاسخ سایت ایران عرضه: گزینه ۲ ❖ در جلسات هیأت دولت فقط رئیس‌جمهوری و وزیران دارای حق رأی هستند. معاون اول نیز هنگامی که ریاست جلسه را برعهده دارد، دارای حق رأی است.

۲- رسیدگی به اتهام رئیس‌جمهور در مورد جرایم عادی، در کجا بررسی می‌شود؟ (آزمون تامین اجتماعی سال ۱۳۹۳)

(۱) دادگاه ویژه (۲) دادگاه عمومی (۳) دیوان عالی کشور (۴) مجلس

۳- آی‌سی‌اس‌کو (ISESCO)، از جمله تشکیلات زیرمجموعه کدام نهاد است؟ (آزمون تامین اجتماعی سال ۱۳۹۳)

(۱) سازمان ملل متحد (۲) اتحادیه عرب

(۳) سازمان همکاری اسلامی (۴) اتحادیه آفریقا

۴- مسئول اصلی و مستقیم تنظیم، سازماندهی و برقراری روابط فرهنگی و اعزام رایزن کشورمان به دیگ کشورها، برعهده کدام نهاد است؟ (آزمون تامین اجتماعی سال ۱۳۹۳)

(۱) وزارت امور خارجه (۲) سازمان تبلیغات اسلامی

(۳) وزارت فرهنگ و ارشاد اسلامی (۴) سازمان فرهنگ و ارتباطات اسلامی

۵- تفسیر قانون عادی در جمهوری اسلامی ایران، با کدام مقام (مقامات) است؟ (آزمون تامین اجتماعی سال ۱۳۹۳)

(۱) هیأت وزیران (۲) اعضای شورای نگهبان

(۳) نمایندگان مجلس شورای اسلامی (۴) قضاوت دیوان عالی کشور

۶- جلسات مجلس شورای اسلامی، با حضور چه تعداد از نمایندگان رسمیت می‌یابد؟ (آزمون تامین اجتماعی سال ۱۳۹۳)

(۱) یک سوم (۲) دوسوم (۳) سه چهارم (۴) اکثریت

۷- رئیس مجمع تشخیص مصلحت نظام، چگونه انتخاب می‌شود؟ (آزمون تامین اجتماعی سال ۱۳۹۳)

(۱) با حکم مقام معظم رهبری (۲) با رأی اکثریت اعضای مجمع

(۳) با تأیید شورای نگهبانی (۴) انتخاب بر اساس قدمت در مجمع

۸- همه پرسی بازنگری قانون اساسی جمهوری اسلامی ایران، در چه زمانی برگزار شد؟ (آزمون آموزش و پرورش سال ۱۳۹۴) (مجری سنجش)

(۱) فروردین ۱۳۶۸ (۲) مرداد ۱۳۶۸ (۳) شهریور ۱۳۶۸ (۴) بهمن ۱۳۶۸

۹- ریاست مجلس خبرگان رهبری تا سال ۱۳۸۶ برعهده چه کسی بود؟ (آزمون آموزش و پرورش سال ۱۳۹۴) (مجری سنجش)

(۲) آیت الله هاشمی

(۱) آیت الله مهدوی کنی

(۴) آیت الله مشکینی

(۳) آیت الله هشتروندی

۱۰- پس از انقلاب مشروطه، در زمان کدام یک از پادشاهان، حکومت مشروطه بر پا گردید؟ (آزمون آموزش و پرورش سال ۱۳۹۴) (مجرى سنجش)

(۱) مظفرالدین شاه (۲) محمدعلی شاه (۳) رضاخان (۴) احمدشاه

۱۱- همه پرسى تاييد قانون اساسى جمهورى اسلامى ايران، در چه زمانى برگزار شد؟ (آزمون آموزش و پرورش سال ۱۳۹۴) (مجرى سنجش)

(۱) بهمن ۱۳۵۸ (۲) آذر ۱۳۵۸ (۳) مرداد ۱۳۵۸ (۴) فروردین ۱۳۵۸

۱۲- کدام یک از آثار زیر نوشتهء جلال آل احمد نویسنده ی معروف ایرانی نیست؟ (آزمون آموزش و پرورش سال ۱۳۹۴) (مجرى سنجش)

(۱) نون والقلم (۲) مدیر مدرسه (۳) شازده احتجاب (۴) غرب زدگی

۱۳- بهترین گلزن تاریخ فوتسال ایران چه کسی است؟ (آزمون آموزش و پرورش سال ۱۳۹۴) (مجرى سنجش)

(۱) علی اصغر حسن زاده (۲) محمدرضا حیدریان

(۳) وحیدشمسایی (۴) حسین طیبی

۱۴- آزادسازی خرمشهر طی چه عملیاتی صورت گرفت؟ (آزمون آموزش و پرورش سال ۱۳۹۴) (مجرى سنجش)

(۱) فتح المبين (۲) مرصاد (۳) بيت المقدس (۴) طريق القدس

۱۵- کدام یک از آثار زیر نوشتهء جلال آل احمد نویسنده ی معروف ایرانی نیست؟ (آزمون آموزش و پرورش سال ۱۳۹۴) (مجرى سنجش)

(۱) نون والقلم (۲) مدیر مدرسه (۳) شازده احتجاب (۴) غرب زدگی

## ❖ فصل چهارم: سوالات قوانین و مقررات اداری و قانون اساسی

### ◀ بخش اول: قوانین و مقررات اداری

۱- کدام گزینه به واحد سازمانی مشخصی نسبت داده می شود که تحقق یک یا چند هدف از اهداف دولت را برعهده دارد و

به موجب قانون ایجاد شده یا می شود و توسط وزیر اداره می گردد ؟

(۱) موسسه یا نهاد عمومی غیردولتی (۲) موسسه دولتی

(۳) وزارتخانه (۴) شرکت دولتی

❑ پاسخ سایت ایران عرضه: گزینه ۳ ◀ وزارتخانه واحد سازمانی مشخصی است که تحقق یک یا چند هدف از اهداف دولت

را برعهده دارد و به موجب قانون ایجاد شده یا می شود و توسط وزیر اداره می گردد.

۲- ..... واحد سازمانی مشخصی است که به موجب قانون ایجاد شده یا می شود و با داشتن استقلال حقوقی، بخشی از

وظایف و اموری را که بر عهده یکی از قوای سه گانه و سایر مراجع قانونی می باشد انجام می دهد.

(۱) موسسه یا نهاد عمومی غیردولتی (۲) موسسه دولتی

(۳) وزارتخانه (۴) شرکت دولتی

۳- ..... بنگاه اقتصادی است که به موجب قانون برای انجام قسمتی از تصدی های دولت به موجب سیاست های کلی

اصل چهل و چهارم (۴۴) قانون اساسی تعیین می گردد، ابلاغیه آن از سوی مقام معظم رهبری صادر گردیده و جزء وظایف

دولت محسوب می گردد. (منبع ایران عرضه)

(۱) موسسه یا نهاد عمومی غیردولتی (۲) موسسه دولتی

(۳) وزارتخانه (۴) شرکت دولتی

۴- تشکیل شرکت های دولتی تحت هر یک از عناوین فوق الذکر صرفا با تصویب ..... مجاز است.

(۱) مجلس شورای اسلامی (۲) وزارتخانه

(۳) مقام معظم رهبری (۴) اداره ثبت شرکت ها

۵- تبدیل شرکت هایی که سهام شرکتهای دولتی در آنها کمتر از پنجاه درصد (۵۰٪) است با افزایش سرمایه به شرکت دولتی

.....

(۱) ممنوع است. (۲) بلامانع است.

(۳) با اجازه ثبت شرکت ها مانعی ندارد. (۴) مستلزم اخذ مجوز نیست.

۶- به جایگاهی که در ساختار سازمانی دستگاه های اجرایی برای انجام وظایف و مسئولیت های مشخص (ثابت و موقت)

پیش بینی و برای تصدی یک کارمند در نظر گرفته می شود چه می گویند؟

(۱) پست سازمانی (۲) دستگاه اجرایی (۳) کارمند دستگاه اجرایی (۴) امور حاکمیتی

۷- شرکت ملی نفت ایران، سازمان گسترش و نوسازی صنایع ایران، بانک مرکزی، بانک ها و بیمه های دولتی از کدام نوع نهاد های زیر می باشند؟

- (۱) پست سازمانی  
(۲) دستگاه اجرائی  
(۳) شرکت های خصوصی  
(۴) شرکت های ملی

۸- آموزش و پرورش عمومی و فنی و حرفه ای، علوم و تحقیقات از جمله کدام امور است؟

- (۱) امور حاکمیتی  
(۲) امور زیربنایی  
(۳) امور اجتماعی، فرهنگی و خدماتی  
(۴) امور اقتصادی

۹- طرح های آب و خاک و شبکه های انرژی، ارتباطات و راه نمونه ای از ..... است.

- (۱) امور حاکمیتی  
(۲) امور زیربنایی  
(۳) امور اجتماعی، فرهنگی و خدماتی  
(۴) امور اقتصادی

۱۰- ..... آن دسته از اموری است که دولت، متصدی اداره و بهره برداری از اموال جامعه است و مانند اشخاص حقیقی و حقوقی در حقوق خصوصی عمل می کند.

- (۱) امور حاکمیتی  
(۲) امور زیربنایی  
(۳) امور اجتماعی، فرهنگی و خدماتی  
(۴) امور اقتصادی

۱۱- ایجاد و اداره هر گونه مهمانسرا، زائرسرا، مجتمع مسکونی، رفاهی، واحدهای درمانی و آموزشی، فضاهای ورزشی، تفریحی و نظایر آن توسط دستگاه های اجرائی ..... است. (تالیف توسط سایت ایران عرضه)

- (۱) ممنوع است  
(۲) بلامانع است  
(۳) با اجازه ثبت شرکت ها مانعی ندارد  
(۴) مستلزم اخذ مجوز نیست

۱۲- دستگاه های اجرائی موظفند حداکثر ظرف چه مدت، مراحل، زمان و کیفیت و استاندارد ارائه خدمات و تغییرات آنها را مستند و شفاف نموده و از طرق مختلف به اطلاع مردم برسانند؟

- (۱) ۱ ماه  
(۲) ۱ هفته  
(۳) ۲۰ روز  
(۴) ۳ ماه

۱۳- منظور از کارمند دستگاه اجرائی کیست؟

- (۱) فردی است که براساس ضوابط و مقررات مربوط در شرکت های دولتی کار می کند.  
(۲) منظور کارمندان و وزرای مشغول به کار در قوه قضائیه هست.  
(۳) فردی است که براساس ضوابط و مقررات مربوط، به موجب حکم و یا قرارداد مقام صلاحیت دارد در دستگاه های قضایی مشغول به کار است.  
(۴) کارمندی که در بخش خدمات شرکت ها مشغول فعالیت هستند.

۱۴- مهمترین هدف دستگاه های اجرائی از مشارکت کارمندان و دریافت پیشنهادات و اثرگذاری آن در تصمیم گیری ها چیست؟

(۱) طوفان مغزی

(۲) دلجویی از کارمندان

(۳) افزایش کارایی و خلاقیت کارمندان

(۴) تقسیم کار در دستگاه

۱۵- بر اساس ماده ۲۰ نظام پیشنهادها و نحوه پرداخت پاداش در دستگاه های اجرایی براساس آیین نامه ای خواهد بود که

با پیشنهاد ..... به تصویب ..... می رسد

(۱) سازمان- هیأت وزیران

(۲) هیأت وزیران- مدیر سازمان

(۳) کارمند ارشد سازمان- مدیر سازمان

(۴) سازمان- حداکثر آرا





## بخش دوم: قانون اساسی

۱- کدامیک از موارد زیر از آرمان های دومین مرحله انقلاب اسلامی است؟

(۱) خودسازی (۲) جامعه پردازی (۳) تمدن سازی (۴) همه موارد

❑ پاسخ سایت ایران عرضه: گزینه ۴ ➡ خودسازی و جامعه پردازی و تمدن سازی از آرمان های دومین مرحله انقلاب اسلامی است.

۲- برای همه چیز میتوان طول عمر مفید و تاریخ مصرف فرض کرد، اما .... این انقلاب دینی از این قاعده مستثنا است؛ آنها هرگز بی مصرف وبی فایده نخواهند شد.

(۱) شعارهای جهانی (۲) آرمان های (۳) اهداف (۴) پایه های

۳- هرگز نمی توان مردمی را تصور کرد که از چشم اندازهای مبارک شعارهای انقلابی دلزده شوند. هرگاه دلزدگی پیش آمده، از ..... بوده است. (منبع ایران عرضه)

(۱) رویگردانی مسئولان از این ارزش های دینی (۲) از پابندی مسئولان به آنها و کوشش برای تحقق آنها

(۳) از ناکارآمد بودن برخی شعارها (۴) ۱ و ۲

۴- از نظر مقام معظم رهبری در بیانیه گام دوم انقلاب اگر جامعه به ..... زیر گرفتار شود، خوشی و خیر نمی بیند.

(۱) عدم توجه به حيله ها و ترفندهای دشمن (۲) نبود فرهنگ

(۳) فساد و بی عدالتی (۴) عدم توجه به علم و دانش

۵- بر اساس گام دوم انقلاب، مهمترین خصوصیات شعارهای انقلابی چیست؟

(۱) شعارهایی مربوط به یک نسل و یک جامعه هستند

(۲) شعارهایی با طول عمر مفید هستند

(۳) شعارهایی فطری و جهانی هستند

(۴) شعارهای اصیل ایرانی- اسلامی می باشند

۶- منظور از دوقطبی های مطرح شده در بیانیه گام دوم انقلاب چیست؟

(۱) متحجر و فاقد احساس و درک نبودن نسبت به پدیده ها و موقعیت های نو؛ اما به شدت حساس بودن در برابر اصول خود و مرزبندی با رقیبان و دشمنان

(۲) دارای انعطاف و آماده تصحیح خطاهای خویش، اما تجدید نظر پذیر و اهل انفعال نبودن

(۳) حساسیت مثبت نشان دادن به نقدها؛ اما فاصله نگرفتن از ارزش ها

(۴) همه موارد

۷- دو جنبه یا دو روی سکه سبک زندگی اصیل در کشور ایران .... است.

(۱) مدل ایرانی و غربی (۲) اسلامیت و ایرانیت (۳) استقلال و آزادی (۴) معنویت و اخلاق

۸- شعار شکل دهنده انقلاب اسلامی .... است.

- (۱) عدالت (۲) اقتصاد (۳) آزادی (۴) استقلال

۹- ترکیب انقلاب (که مستلزم جوشش انقلابی است) و نظام سازی (که مستلزم نظم سیاسی و اجتماعی است) در کدام نظریه جمع بندی شده است؟

(۱) انقلاب و نظام دو تعبیر متضاد بوده و جمع کردن آنها ممکن نیست.

(۲) نظریه پویایی و ایستایی

(۳) نظریه نظام انقلابی

(۴) نظریه نهضت و نهاد

۱۰- ..... آرمان بزرگ انقلاب اسلامی است.

(۱) سربلندی ایران و ایرانی (۲) ایجاد تمدن اسلامی

(۳) شکست آمریکای جهان خوار (۴) جامعه سازی

۱۱- کدام مورد در ارتباط با معنای بسیج غلط است؟

(۱) شهید شدن (۲) اسباب و سازمان (۳) آماده سفر شدن (۴) عزم و اراده

۱۲- پایان درس نگرفتن از وقایع گذشته چیست؟

(۱) اینکه حقیقت را از دشمن بشنویم (۲) آینده مورد تهدیدهای ناشناخته قرار خواهد گرفت

(۳) دروغ ها به جای حقیقت خواهند نشست (۴) ۲ و ۳

۱۳- رژیم طاغوت .... رژیم سلطنتی در ایران بود که به دست بیگانه - ونه به زور شمشیر خود - بر سر کار آمده بود.

(۱) سومین (۲) دومین (۳) اولین (۴) چهارمین

۱۴- معنای لغوی انقلاب چیست؟

(۱) پدیده‌ای نوظهور (۲) عوض شدن ذات (۳) زیر و رو شدن (۴) چرخش

۱۵- چرا بیانیه انقلاب ادعا میکند انقلاب اسلامی و نظام برخاسته از آن از نقطه ی صفر شروع شده است؟

(۱) پیشرفت های ابتدایی حاصل شده در علم و فناوری و سیاست و معرفت

(۲) عدم وجود تجربه پیشین و راه طی شده در مقابل انقلابیون

(۳) در نتیجه عملکرد رژیم طاغوت

(۴) ۱ و ۲

## ❖ فصل پنجم: سوالات ریاضی و آمار مقدماتی

۱- در جدول زیر بجای علامت سوال کدام گزینه را می توان قرار داد؟ (آزمون آموزش و پرورش - ۱۳۸۶)

۱	۳۱	۲
۲	۵۲	۳
۳	۶۳	؟

(۱) ۳

(۲) ۲

(۳) ۴

(۴) ۱

❑ پاسخ سایت ایران عرضه: گزینه ۱ ⇐ اگر به اعداد ستون وسط در جدول توجه کنیم متوجه می شویم که رقم دهگان از حاصل جمع اعداد موجود در ستون های کناری بدست آمده است. به طور مثال داریم:

$$\underline{31} = 1 + 2$$

$$\underline{52} = 2 + 3$$

$$\underline{63} = 3 + 3$$

۲- ۱۱۴۰ ثانیه دیگر ساعت ۵ و ۳۰ دقیقه خواهد شد. الآن ساعت چند است؟ (آزمون آموزش و پرورش - ۱۳۸۶)

(۱) چهار و یازده دقیقه

(۲) پنج و چهل و نه دقیقه

(۳) پنج و یازده

(۴) چهار و پنجاه و یک دقیقه

۳- سعید بلندتر از مسعود و کوتاه تر از حمید است، حامد کوتاه تر از سعید اما بلندتر از مسعود است. قد کدام یک بلندتر

از همه است؟ (آزمون آموزش و پرورش - ۱۳۸۶)

(۱) حمید

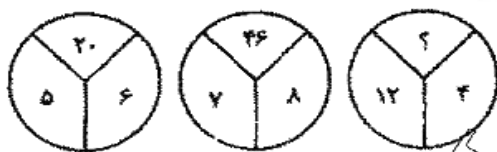
(۲) سعید

(۳) حامد

(۴) مسعود

مسعود → حامد → سعید → حمید

۴- با توجه به شکلهای مقابل مقدار؟ را بیابید : (آزمون آموزش و پرورش - ۱۳۸۶)



(۱) ۱۶

(۲) ۱۸

(۳) ۳۸

(۴) ۵۸

۵- در دنباله حروف زیر حرف مجهول چه حرفی است؟ «ژ، ص، ر، ط، د، ع، ؟» (آزمون آموزش و پرورش - ۱۳۸۶)

(۱) ج

(۲) چ

(۳) ح

(۴) خ

۶- اگر تعداد زیرمجموعه های مجموعه M از تعداد زیرمجموعه های  $A = \{1, 2, 3\}$  8 زیرمجموعه بیشتر باشد. M چند عضو

دارد؟ (آزمون آموزش و پرورش - ۱۳۸۶)

(۱) ۳

(۲) ۴

(۳) ۵

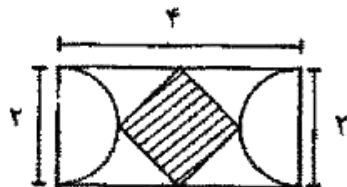
(۴) ۶

۷- اگر تمامی داده های آماری را دو برابر کنیم مد و میانه حاصل چگونه اند؟ (آزمون آموزش و پرورش - ۱۳۸۶)

(۱) مد ثابت و میانه دو برابر می شود. (۲) مد و میانه هر دو دو برابر می شوند.

(۳) مد دو برابر و میانه ثابت می ماند. (۴) مد دو برابر و میانه نصف می شود.

۸- با توجه به شکل مقابل مساحت چهار ضلعی وسطی چند است؟ (آزمون آموزش و پرورش - ۱۳۸۶)



(۱) ۱

(۲) ۲

(۳)  $\sqrt{3}$

(۴) ۴

۹- اگر  $A$  و  $B$  دو مجموعه ناتهی باشند، مجموعه  $A - (A \cap B)$  کدام است؟ (آزمون آموزش و پرورش - ۱۳۸۹)

(۱)  $A \cap B$  (۲)  $A \cap B'$  (۳)  $B \cap A'$  (۴)  $(A \cup B)'$

۱۰- اگر تابع  $f(x) = \sqrt{2x} - 1$  و  $g(x) = x^2 + 1$  باشد، مقدار  $(g \circ f)$  به مقدار  $x=2$  کدام است؟ (آزمون آموزش و پرورش - ۱۳۸۹)

(۱) ۱ (۲) ۲ (۳) ۳ (۴) ۴

۱۱- مجموع ده جمله اول تصاعد هندسی  $\{3, 6, 12, \dots\}$  کدام است؟ (آزمون آموزش و پرورش - ۱۳۸۹)

(۱) ۳۰۹۶ (۲) ۳۰۶۹ (۳) ۶۹۳۰ (۴) ۹۶۳۰

۱۲- جواب های معادله  $\begin{cases} 5x + 2y = 19 \\ 4x + 3y = 18 \end{cases}$  کدام است؟ (آزمون آموزش و پرورش - ۱۳۸۹)

(۱)  $x = -3, y = 2$  (۲)  $x = 2, y = 3$

(۳)  $x = -3, y = -2$  (۴)  $x = 3, y = 2$

۱۳- جواب های معادله درجه دوم  $x^2 - 5x + 6 = 0$  کدامند؟ (آزمون آموزش و پرورش - ۱۳۸۹)

(۱)  $x_1 = 1, x_2 = 2$  (۲)  $x_1 = 3, x_2 = 2$

(۳)  $x_1 = 2, x_2 = 4$  (۴)  $x_1 = 3, x_2 = 4$

۱۴- اگر به مجموعه  $A$  چهار عضو اضافه کنیم، تعداد زیر مجموعه آن چند برابر می شود؟ (آزمون آموزش و پرورش - ۱۳۸۹)

(۱) ۴ (۲) ۸ (۳) ۱۶ (۴) ۳۲

۱۵- در صورتی که متغیر پیوسته و یا تعداد مشاهدات زیاد باشد، استفاده از کدام نمودار بهتر است؟ (آزمون آموزش و پرورش - ۱۳۸۹)

(۱) هیستوگرام (۲) ستونی (۳) میله ای (۴) دایره ای

## ❖ فصل ششم: سوالات توانمندی های ذهنی و ویژگی های رفتاری

راهنمایی: متن زیر را به دقت خوانده و صحیح ترین پاسخ را برای سوال های ۱ تا ۴ انتخاب کنید

به باور متخصصان، طراحی شهری حدود پنجاه سال پیش، به صورت حوزه‌ای نسبتاً مستقل با هدف انتقاد به معماری مدرن در کشورهای فراصنعتی شکل گرفت. از حدود یک دهه پس از آن، اولین متون مرتبط با این دانش به صورت ترجمه شده در متون علمی ایران وارد شد. [۱] از این دوران به بعد، کتاب‌های چندی توسط شهرسازان، طراحان شهری معماران تألیف، ترجمه و گردآوری شد. مقایسه متون طراحی شهری ایران با منابع متنوعی که در حوزه جهانی طراحی شهری انتشار یافته، نشان می‌دهد تألیف‌های صورت گرفته در ایران در جهت زایش علمی - به گونه‌ای که به عنوان مرجع طراحی شهری در مجامع علمی جهانی مورد استفاده قرار گیرند - نبوده است. لذا ابتدا وضعیت دانش طراحی شهری در ایران با تاکید بر مقایسه تحلیلی با متون جهانی در حوزه‌های نظری و علمی بررسی گردیده است. از این منظر زمان پیدایش هر یک از حوزه‌ها در ایران نیز مورد مداقه قرار گرفت. [۲] تعادل میان مباحث مختلف دانش در ایران سنجیده شد. بنابراین سعی بر این بوده است نقاط قوت و ضعف متون طراحی شهری در ایران سنجیده شود تا مقدمه‌ای برای پیشرفت دانش و یا بازنگری در جهت‌گیری موجود فراهم آید.

بررسی وضعیت و طبقه‌بندی متون جهانی طراحی شهری به طرق گوناگونی انجام شده، اما تاکنون چنین بررسی در مورد ایران صورت نگرفته است. [۳] ضرورت چنین مطالعه‌ای این است که با وجود گذشت چهار دهه از ورود این دانش به ایران که مدت زمان قابل توجهی برای مناسب سازی و تولید دانش بوده است، این دانش در وضعیت مطلوبی قرار ندارد و این به معنای وجود مسئله‌ای در ساختار تولید دانش است. احتمالاً اگر روند کنونی ادامه یابد، طراحی شهری ایران از زایش علمی مطلوبی باز می‌ماند و با جهت‌گیری نادرست پژوهش‌ها، کمبودها در حوزه‌های مختلف پررنگ‌تر می‌شود. [۴] لذا این بحث، بدنه متون طراحی شهری در ایران و همچنین ضعف‌های آن را به دانشجویان و دانش‌پژوهان برای انجام مطالعات و تحقیقات علمی معرفی کرده و راهکارهایی برای غلبه بر ضعف‌ها ارائه نموده است.

۱- بر اساس متن، کدام مورد درخصوص طراحی شهری در ایران صحیح است؟ (اولین آزمون فراگیر دستگاه های اجرایی مشترک با آموزش و پرورش - خرداد ۱۳۹۴) (مجری سنجش)

(۱) از منظر تولید دانش، به مرحله رشد و پویایی نرسیده است.

(۲) منبع الهام معماری مدرن در کشورهای فراصنعتی بوده است.

(۳) علی‌رغم پیشرفت در حوزه علمی، در حوزه‌های نظری وضعیت مطلوبی ندارد.

(۴) در چند دهه گذشته، شاهد نوآوری‌هایی بوده است.

❑ پاسخ سایت ایران عرضه: گزینه ۱ ➡ با توجه به بند دوم سطر ۲ به بعد

۲- معنی واژه «مداقه» در پاراگراف اول کدام است؟ (اولین آزمون فراگیر دستگاه های اجرایی مشترک با آموزش و پرورش - خرداد ۱۳۹۴) (مجری سنجش)

۳- جمله زیر، در کدام یک از بخش‌های متن که با شماره مشخص شده‌اند، قرار می‌گیرد؟ (اولین آزمون فراگیر دستگاه‌های اجرایی مشترک با آموزش و پرورش - خرداد ۱۳۹۴) (مجری سنجش)

«به عبارتی دیگر، یکی از ضرورت‌های بحث، تعیین حوزه‌های مهم لحاظ نشده در ایران، در مقایسه با مهم‌ترین منابع طراحی شهری دنیا است.»

(۱) [۳]

(۲) [۲]

(۳) [۱]

(۴) [۴]

۴- موضوع اصلی پاراگراف بعد از متن، کدام است؟ (اولین آزمون فراگیر دستگاه‌های اجرایی مشترک با آموزش و پرورش - خرداد ۱۳۹۴) (مجری سنجش)

- (۱) بررسی تحلیلی متون طراحی شهری در ایران
- (۲) معرفی ضعف‌های موجود در منابع طراحی شهری دنیا
- (۳) تحقیقات انجام شده در حوزه طراحی شهری در ایران
- (۴) راهکارهایی برای افزایش تولید دانش در ایران

۵- کار خیرآسانی که امروز می‌خواهیم پیشنهاد کنیم، تعریف کردن از کارهای دیگران و تایید کردن آنهاست. پس امروز سعی می‌کنیم که اگر کسی را می‌شناسیم که کار خیری کرده است یا اگر در خانه، همسر یا فرزندمان کار خوبی انجام می‌دهند، از انجام آن کار، حتی اگر دقیق و عالی نبوده، تعریف کنیم و بگوییم که تا چه حد کارشان مؤثر است.

کدام مورد، در صورتی که صحیح فرض شود، به بهترین وجه، توصیه مطرح شده در متن را تقویت می‌کند؟ (اولین آزمون فراگیر دستگاه‌های اجرایی مشترک با آموزش و پرورش - خرداد ۱۳۹۴) (مجری سنجش)

- (۱) بسیاری از افراد، آنقدر درگیر مسائل شخصی خود هستند که از کارکرد اطرافیان‌شان غافل می‌مانند.
- (۲) تحقیقات نشان می‌دهد که افرادی که از دیگران تعریف می‌کنند، بیشتر زیردستان هستند و نه بالادستی‌ها.
- (۳) تعریف کلامی از کار خوب دیگران، اگر با جایزه‌ای خاص، مثلاً پاداش ملی همراه باشد، کارایی بیشتری در افزایش بهره‌وری افراد دارد.

(۴) آدم‌ها نیاز به تأیید شدن دارند و این تأیید شدن از سوی دیگران، حال خوبی به آنها می‌دهد.

۶- اگر در حال حاضر، دانشجوی کارشناسی بیمه یا یکی از رشته‌های مرتبط با آن هستید یا تصمیم دارید وارد این رشته شوید، بد نیست کمی درباره بازار کار و آینده شغلی آن بدانید. یک کارشناس بیمه معمولاً در شرکت‌های بیمه‌ای دولتی یا خصوصی یا نمایندگی‌های آنها مشغول به کار می‌شود. بسیاری از کارهای کارشناس بیمه در داخل شرکت انجام می‌گیرد، اما گاهی لازم است برای ارزیابی، شخصاً به محل مورد نظر خارج از شرکت مراجعه کند. کدام مورد، یک فرض مستتر در استدلال

فوق است؟ (اولین آزمون فراگیر دستگاه‌های اجرایی مشترک با آموزش و پرورش - خرداد ۱۳۹۴) (مجری سنجش)

(۱) کسانی که با توجه به علاقه خود، رشته مورد نظرشان را انتخاب کنند، در شغل آینده خود، موفق‌تر از بقیه خواهند بود.



۲) کسی در بازار کار موفق می‌شود که رشته تحصیلی خود را با توجه به علاقه و استعداد ذاتی خود انتخاب کند.

۳) یکی از مولفه‌های انتخاب رشته، باید با توجه به بازار و شرایط کاری آن باشد.

۴) رشته بیمه یا رشته‌های مرتبط، در صورتی که با آگاهی کامل انتخاب شده باشند، ضمانت شغلی نیز به دنبال خود می‌آورند.

۷- اگر داشتید از پیاده‌روی رد می‌شدید و دیدید که گروهی، کنار خیابان، موسیقی زنده اجرا می‌کنند، صبر کنید بایستید و به

صدای سازشان گوش کنید. آنها برای شما می‌زنند .....

کدام مورد. به منطقی‌ترین شکل، جای خالی در متن فوق را کامل می‌کند؟ (اولین آزمون فراگیر دستگاه های اجرایی مشترک

با آموزش و پرورش - خرداد ۱۳۹۴) (مجرى سنجش)

۱) چون شما و آنها از یک جنس هستید

۲) ولی خود نیز این را نمی‌دانند

۳) و این کنسرتی، برای شما یک نفر است

۴) و به تعبیری ساعت‌ها برای این کار تمرین کرده‌اند

۸- اصولاً چه ارتباطی میان رنج و هر روزیگی است؟ به نظر می‌رسد که رنج، استثنایی بر قاعده هر روزه است، پس رابطه

میان رنج و هر روزیگی، همان رابطه میان استثنا و قاعده است، اما برخلاف آنچه معمولاً می‌پنداریم، استثنا قاعده را نقض

نمی‌کند، بلکه آن را به نهایت خویش می‌رساند. استثنا حدّ قاعده است و حدّ هر چیز، حقیقت آن چیز است و اگر متن یک چیز

در حدّش نقض می‌شود، صرفاً به آن خاطر است که آن چیز در متن خویش، حامل تناقض است و گرنه حد کاری نکرده است،

مگر تکرار بی‌لکنت متن. کدام مورد، با نتیجه‌گیری متن مغایرت دارد؟ (اولین آزمون فراگیر دستگاه های اجرایی مشترک با

آموزش و پرورش - خرداد ۱۳۹۴) (مجرى سنجش)

۱) حدّ هر چیز، متن آن چیز را نقض نمی‌کند.

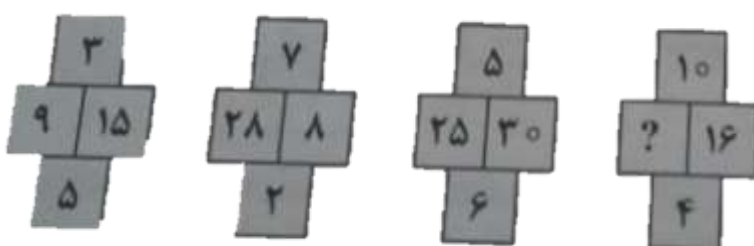
۲) رنج، هویتی مستقل از هر روزیگی دارد.

۳) برخی حدّ هر چیز را به غلط، استثنای قاعده می‌دانند.

۴) استثنا را نباید جزو لاینفک قاعده دانست.

۹- در هر کدام از شکل‌های زیر، ارتباط خاص و مشترکی بین اعداد برقرار است. به جای علامات سؤال، کدام عدد باید قرار

بگیرد؟ (اولین آزمون فراگیر دستگاه های اجرایی مشترک با آموزش و پرورش - خرداد ۱۳۹۴) (مجرى سنجش)



۲۰ (۱)

۳۰ (۲)

۴۰ (۳)

۱۰ (۴)

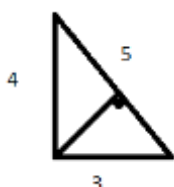
۱۰- اگر پرینتر A نسبت به پرینتر B، ۲۵ درصد سریع‌تر باشد و پرینتر A در هر دقیقه ۲۰ برگ پرینت بگیرد، پرینتر B، ۴۰۰ برگ را در چند دقیقه پرینت می‌گیرد؟ (اولین آزمون فراگیر دستگاه‌های اجرایی مشترک با آموزش و پرورش - خرداد ۱۳۹۴) (مجری سنجش)

(۱) ۱۶ (۲) ۲۰ (۳) ۲۵ (۴) ۱۵

۱۱- دو نوع چای به قیمت هر کیلوگرم ۱۵ و ۲۰ هزار تومان را به ترتیب به چه نسبت‌هایی مخلوط کنیم تا چای با قیمت ۱۶۵۰۰ تومان برای هر کیلوگرم حاصل شود؟ (اولین آزمون فراگیر دستگاه‌های اجرایی مشترک با آموزش و پرورش - خرداد ۱۳۹۴) (مجری سنجش)

(۱) ۳ به ۱ (۲) ۵ به ۲ (۳) ۵ به ۳ (۴) ۷ به ۳

۱۲- اگر نسبت طول اضلاع یک مثلث قائم‌الزاویه ۳ به ۴ باشد، نسبت طول ارتفاع وارد بر وتر به طول وتر این مثلث، کدام است؟ (اولین آزمون فراگیر دستگاه‌های اجرایی مشترک با آموزش و پرورش - خرداد ۱۳۹۴) (مجری سنجش)



(۱) ۱۳ به ۳۰

(۲) ۱۲ به ۲۵

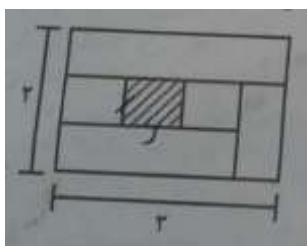
(۳) ۱۲ به ۳۵

(۴) ۱۳ به ۲۵

۱۳- مقداری جو و گندم به نسبت‌های ۵ و ۷ کاملاً مخلوط شده‌اند. پس از آنکه ۹ کیلوگرم از مخلوط را برداشته و به جای آن به همان مقدار جو بریزیم، نسبت جو به گندم ۹ به ۷ می‌شود. نهایتاً این مخلوط چند کیلوگرم گندم خواهد داشت؟

(۱) ۱۰۳۵ (۲) ۱۸۹ (۳) ۳۲۴ (۴) ۱۳۵

۱۴- نسبت طول به عرض مستطیل زیر که با خطوطی به ۶ قسمت با مساحت‌های مساوی تقسیم شده است، ۲ به ۳ می‌باشد. نسبت طول به عرض مستطیل هاشورخورده، کدام است؟ (اولین آزمون فراگیر دستگاه‌های اجرایی مشترک با آموزش و پرورش - خرداد ۱۳۹۴) (مجری سنجش)



(۱) ۱۶ به ۲۵ (۲) ۴ به ۹

(۳) ۱ به ۴ (۴) ۹ به ۱۶

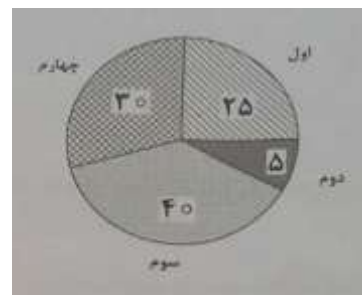

در یک روز برفی، تعدادی از دانش‌آموزان دبستان یک روستا که دارای چهار کلاس اول، دوم، سوم و چهارم است، غیبت می‌کنند. نمودار سمت چپ، درصد تعداد غایبین هر کلاس نسبت به کل تعداد دانش‌آموزان همان کلاس و نمودار سمت راست، درصد تعداد غایبین هر کلاس نسبت به کل تعداد غایبین آن دبستان را نشان می‌دهد.

درصد تعداد غایبین هر کلاس نسبت

درصد تعداد غایبین هر کلاس

به کل دانش‌آموزان همان کلاس

به کل تعداد غایبین دبستان



۱۵- نسبت تعداد حاضرین کلاس دوم به حاضرین کلاس چهارم، کدام است؟ (اولین آزمون فراگیر دستگاه های اجرایی مشترک با آموزش و پرورش - خرداد ۱۳۹۴) (مجرى سنجش)

- (۱) ۳ به ۱      (۲) ۳ به ۲      (۳) ۹ به ۵      (۴) ۲ به ۱

ایران عرضه  
فروشگاه کالاهای دانشمندی  
IRANARZE-IR

## ❖ فصل هفتم: سوالات زبان انگلیسی عمومی با پاسخنامه تشریحی

1- This is a very light chair. It is ... of a series of aluminum tubes. (آزمون آموزش و پرورش - ۱۳۹۴)

- 1) Composed      2) Consist      3) Aware      4) Afraid

❑ پاسخ سایت ایران عرضه: گزینه ۱ ⇨ این یک صندلی بسیار سبک است. آن از مجموعه ای از لوله های آلومینیومی ساخته می شود.

۱- درست کردن، ساختن      ۲- متشکل از      ۳- آگاه، با خبر      ۴- هراسان  
با توجه به معنی جمله گزینه اول و دوم می تواند صحیح باشد اما از در جای خالی فعل با ساختار مجهول یعنی قسمت سوم فعل باید قرار گیرد.

2- Moslems ... Their shoes whenever they want to enter a mosque. (آزمون آموزش و پرورش - ۱۳۹۴)

- 1) Keep on      2) Take off      3) Put on      4) Turn off

3- The teacher asked the student ... lesson 5. (آزمون آموزش و پرورش - ۱۳۹۴)

- 1) That she had studied      2) That she has studied  
3) If she had studied      4) Has she studied

4- This must be kept a ... between us. Nobody should know it. (آزمون آموزش و پرورش - ۱۳۹۴)

- 1) Covered      2) Secret      3) Known      4) Puzzle

5- The stories ... either in English or Persian. (آزمون آموزش و پرورش - ۱۳۹۴)

- 1) Can be told      2) Will tell      3) Can tell      4) Can be tell

6- ..., follow the directions on the bottle carefully. (آزمون آموزش و پرورش - ۱۳۹۴)

- 1) When taking drugs      2) When one takes drugs  
3) When, in taking drugs      4) Wen taken drugs

7- These Flowers are really beautiful although they are... (آزمون آموزش و پرورش - ۱۳۹۴)

- 1) Artificial      2) Official      3) Special      4) Social

8- Before anyone could photograph the strange looking bird, .... (آزمون آموزش و پرورش - ۱۳۹۴)

- 1) It was flying away      2) It has flown away  
3) It had been flying away      4) It flew away

9- They are my best friends, I always respect... (آزمون آموزش و پرورش - ۱۳۹۴)

- 1) Their      2) They      3) Them      4) Themselves

10- Created something which did not exist before means. (آزمون آموزش و پرورش - ۱۳۹۴)

- 1) Discover                      2) Calculate                      3) Invent                      4) Involve

**11- I wish you .... it last week. (آزمون آموزش و پرورش - ۱۳۹۴)**

- 1) Sent                      2) Could sent                      3) Could have sent                      4) Have sent

**12- Are you still here? You were here half an hour ago. Who...for? (آزمون آموزش و پرورش - ۱۳۹۴)**

- 1) Do you wait                      2) Did you wait                      3) Had you waited                      4) Are you waiting

**13- The world is changing all the time, so are words. This sentence means that... (آزمون آموزش و پرورش - ۱۳۹۴)**

- 1) The world is changing, not words  
2) Words are changing, not worlds  
3) Only worlds are changing all the time  
4) Not only the world but also words are always changing

**14- It is argued that it is ..... for a manager to provide her staff with constructive feedback. (آزمون فراگیر خرداد - ۱۳۹۴)**

- 1) Actual                      2) crucial                      3) aware                      4) entire

**15- Those organisms that are most suited to the environment will be those that will ..... (آزمون فراگیر خرداد - ۱۳۹۴)**

- 1) Survive                      2) stick                      3) handle                      4) protect

## ❖ فصل هشتم: سوالات مهارت های فناوری اطلاعات

۱- اگر بخواهید در یک سند WORD، بالای صفحه یک نوشته ثابت ظاهر شود، چگونه عمل می‌کنید؟ (آزمون تامین اجتماعی آبان ۱۳۹۳) (سنجش)

(۱) استفاده از Table

(۲) استفاده از Text Box

(۳) استفاده از Header


(۴) کپی کردن نوشته موردنظر بالای هر صفحه

❑ پاسخ سایت ایران عرضه: گزینه ۳ ➡ برای نوشتن سر صفحه باید از بخش insert قسمت header استفاده نمود.


۲- یک جدول در یک صفحه از یک سند word قرار داده‌اید. جهت محوسازی خطوط جدول، از کدام ابزار زیر، کمک می‌گیرید؟ (آزمون تامین اجتماعی آبان ۱۳۹۳) (سنجش)



(۴)



(۳)



(۲)



(۱)

۳- اگر بخواهید در یک سند، Word، در انتهای آخرین خط سند قرار بگیرید، از ترکیب کلید Ctrl با کدام یک از کلیدهای میانبر زیر، استفاده می‌کنید؟ (آزمون تامین اجتماعی آبان ۱۳۹۳) (سنجش)

(۴) Tab

(۳) Page down

(۲) Enter

(۱) End

۴- برای وارد کردن 🗨️، از کدام ابزار زیر، کمک می‌گیرید؟ (آزمون تامین اجتماعی آبان ۱۳۹۳) (سنجش)

(۴) Word Art

(۳) Object

(۲) Symbol

(۱) Hyperlink

۵- فرض کنید بخواهید بین گروه ۵ و گروه ۶، یک سطر جدید ایجاد کنید، کدام مورد برای انجام این کار، مناسب است؟ (آزمون تامین اجتماعی آبان ۱۳۹۳) (سنجش)

(۱) روی شماره ۶ کلیک کرده و گزینه را انتخاب می‌کنیم.

(۲) روی شماره ۷ کلیک راست کرده و گزینه را انتخاب کنیم.

(۳) روی شماره ۶ کلیک چپ کرده و از منوی را انتخاب می‌کنیم.

(۴) روی شماره ۷ کلیک چپ کرده و از منوی را انتخاب می‌کنیم.

۶- اگر بخواهید محتویات جدول را بر اساس ستون B مرتب کنید، به کدام بخش مراجعه می‌کنید؟ (آزمون تامین اجتماعی آبان ۱۳۹۳) (سنجش)

(۴) Data

(۳) Review

(۲) Formulas

(۱) View

۷- عبارت «R31» در شکل، بیانگر کدام مورد است؟ (آزمون تامین اجتماعی آبان ۱۳۹۳) (سنجش)

(۲) ردیف و ستون خانه انتخاب شده

(۱) نام فایل

(۴) محتویات خانه انتخاب شده

(۳) آخرین خانه حاوی محتویات در کاربرگ



۸- در محیط PowerPoint، شکل رو برو، بیانگر کدام وضعیت نمایش است؟ (آزمون تامین اجتماعی آبان ۱۳۹۳) (سنجش)



Normal (۱)

Reading (۲)

Slide Show (۳)

Slide Sorter (۴)

۹- یک فایل PowerPoint، شامل ۲۰ اسلاید در اختیار دارید، ساده‌ترین راه برای نمایش داده نشدن اسلاید شماره ۱۵ در حین نمایش، استفاده از کدام مورد است؟ (آزمون تامین اجتماعی آبان ۱۳۹۳) (سنجش)

Hide Slide (۱) Delete Slide (۲) Slide Show (۳) Slide Sorter (۴)

۱۰- فرض کنید بخواهید در حین نمایش یک فایل PowerPoint، یک فایل صوتی در پس زمینه پخش شود، جهت اضافه کردن فایل صوتی مورد نظر، از کدام بخش کمک می‌گیرید؟ (آزمون تامین اجتماعی آبان ۱۳۹۳) (سنجش)

Animation (۱) Home (۲) Insert (۳) Slide Show (۴)

۱۱- یک فایل PowerPoint، با کدام یک از پسوندهای Word، قابل ذخیره سازی است؟ (آزمون تامین اجتماعی آبان ۱۳۹۳) (سنجش)

Rtf, I (۱) و II (۲) Doc, II (۳) فقط III (۴) فقط I (۵) dot, III

۱۲- کدام توصیف زیر، در مورد موتور جستجو، صحیح است؟ (آزمون تامین اجتماعی آبان ۱۳۹۳) (سنجش)

- (۱) برنامه‌ای است که جهت پیدا کردن یک اتصال به اینترنت استفاده می‌شود.
- (۲) برنامه‌ای است که به کاربر کمک می‌کند تا اطلاعات را روی اینترنت پیدا کند.
- (۳) برنامه‌ای است که جهت پیدا کردن صفحات وبی که اخیراً بازدید شده‌اند، استفاده می‌شود.
- (۴) برنامه‌ای است برای پیدا کردن افرادی که در یک روز مشخص، از یک صفحه مشخص بازدید کرده‌اند.

۱۳- فرض کنید هر روز بخواهید با باز کردن مرور گر خود، صفحه پست الکترونیک شخصی شما، صفحه وب اصلی شرکت یا اداره‌ای که در آن مشغول به کار هستید و یک صفحه خبری مشخص، بارگذاری شوند. از کدام ابزار، برای اعمال این تنظیمات کمک می‌گیرید؟ (آزمون تامین اجتماعی آبان ۱۳۹۳) (سنجش)

Bookmark (۱) Favorite (۲) Home Page (۳) History (۴)

۱۴- کدام مورد، جهت مدیریت ارسال و دریافت نامه‌های الکترونیکی و ذخیره‌سازی آن‌ها مناسب است؟ (آزمون تامین اجتماعی آبان ۱۳۹۳) (سنجش)

Outlook (۱) Internet Explorer (۲) Yahoo (۳) ISP (۴)

۱۵- در یک پست الکترونیکی، نامه‌های حذف شده ابتدا به کدام پوشه منتقل می‌شود؟ (آزمون تامين اجتماعي آبان ۱۳۹۳)

(سنجش)

Spam (۴

Trash (۳

Inbox (۲

Draft (۱



## ❖ فصل نهم: سوالات عمومی ادوار گذشته آزمون های استخدامی بانک ها و فراگیر

### دستگاه های اجرایی و سازمان های دولتی

#### ◀ معارف اسلامی

۱- گرایشی که عموم تلاش های انسان را تحت تاثیر خود قرار می دهد، میل به ..... است که پاسخ گوی آن ..... است

و نشانی بر..... خداوند می باشد؟ (بانک تجارت)

(۱) کمالات بی نهایت - رستاخیز - عدل

(۲) بقا و جاودانگی - حکیمانه بودن خلقت - حکمت

(۳) کمالات بی نهایت - عادلانه بودن خلقت - عدل

(۴) بقا و جاودانگی - رستاخیز - حکمت

❑ پاسخ سایت ایران عرضه: گزینه ۲ ➡ با دقت در وجود آدمی می بینیم که خداوند انسان را به گونه ای آفریده که گرایش به

بقا و جاودانگی دارد و از نابودی گریزان است. اما دنیا و عمر محدود انسان ها پاسخگوی این گونه خواسته ها نیست. در این

صورت باید گفت خداوند گرایش به زندگی جاوید را در وجود انسان قرار داده است و سپس او را در حالی که مشتاق حیات

ابدی است، نابود میکند آیا این کار با حکمت خداوند سازگار است. بنابر حکمت الهی؛ با وجود میل به جاودانگی و بقا و

همچنین خواستن همه کمالات و زیبایی ها در انسان با توجه به عمر محدود انسان و شرایط دنیا؛ وجود معاد ضرورت دارد.

۲- «آگاهی انسان از طریق صورت ها و مفاهیم ذهنی» و «آگاهی انسان به قوای ادراکی خود» موصوف به کدام علم است؟

(بانک ملی)

(۱) حضوری - حصولی

(۲) حصولی - حضوری

(۳) حصولی - حصولی

(۴) حضوری - حضوری

۳- صفاتی که از ارتباط ذات الهی با مخلوقات انتزاع می شوند چه نام دارد؟ (بانک ملی)

(۱) ذاتی- قدرت الهی (۲) فعلی- خالقیت (۳) ذاتی- خالقیت (۴) فعلی - قدرت الهی

۴- مفهوم آیه شریفه «فُطِرَ اللَّهُ الْإِنْسَانُ فَطَرِ النَّاسَ عَلَيْهَا» به ترتیب با کدام مورد مطابقت معنایی دارد؟ و با کدام یک از ابعاد

روح انسان، موافقت دارد؟ (بانک ملی)

(۱) من خدایی را که نبینم، عبادت نمی کنم - ادراکی

(۲) خداوند، تو قلب را بر محبت خود آفریده ای- گرایشی

(۳) خداوند، تو قلب را بر محبت خود آفریده ای- ادراکی

(۴) من خدایی را که نبینم، عبادت نمی کنم- گرایشی

۵- کدام دسته از صفات خداوند صرفا با دخالت امری ثالث به اثبات می رسد؟ (بانک تجارت)

(۱) ذات (۲) فعل (۳) سلبیه (۴) ثبوتیه

۶- نماز در همه ادیان ..... بوده است (بانک تجارت)

(۱) مستحب (۲) واجب (۳) دارای جایگاه واحد (۴) مورد توجه

۷- کدام سوره به قلب قرآن معروف است؟ (بانک تجارت)

(۱) بقره (۲) توحید (۳) یاسین (۴) تکویر

۸- «استیفا» یعنی: (بانک صادرات)

(۱) بازستدن به طور کامل (۲) بی نیازی

(۳) چیرگی (۴) کناره گیری از کار

۹- از مفهوم بیت «برآمد ز سودای من سرخ روی کزین جنس بیهوده دیگر مگوی» همه گزینه ها، به جز گزینه ..... دریافت

می شود. (بانک صادرات)

(۱) خام اندیشی (۲) یاوه گویی (۳) شرمندگی (۴) برافروختگی

۱۰- کدام گزینه از لحاظ نگارش، درست است؟ (بانک صادرات)

(۱) در فرهنگ ما شهادت یک حادثه خونین و ناگوار نیست.

(۲) شهادت یه حادثه خونین و ناگوار در فرهنگ ما نیست.

(۳) در فرهنگ ما یک حادثه خونین و ناگوار شهادت نیست.

(۴) شهادت در فرهنگ ما یک حادثه خونین و ناگوار نیست.

۱۱- مقدم شدن (ایاک) بر (نعبد) و (نستعین) چه نتیجه ای دارد؟ (فراگیر)

(۱) توحید در ربوبیت (۲) توحید عبادت و افعالی

(۳) عظمت عبادت خداوند (۴) فضیلت عبادت به جماعت

۱۲- کدام گزینه زیر نظر به محور اصلی نظام تربیتی جهان دارد؟ (فراگیر)

(۱) هدایت الهی (۲) حاکمیت حق تعالی

(۳) ربوبیت خداوند (۴) رحمت و رحمانیت خداوند

۱۳- کدام یک از گزینه های زیر به سه توحید اشاره دارد؟ (فراگیر)

توحید ذات، صفات و افعال

(۱) ایاک نعبد (۲) ایاک نستعین

(۳) الحمد لله رب العالمین (۴) مالک يوم الدين

۱۴- سرچشمه اصلی شرک و پایمال نمودن حقوق دیگران چیست؟ (فراگیر)

(۱) تکبر (۲) حسد (۳) طمع (۴) غیبت

۱۵- در قرآن کریم از اتفاق با چه نامی تعبیر شده است؟ (فراگیر)

(۱) صدقه (۲) قرض (۳) فء (۴) اضعاف

۱۶- وجوب نماز و روزه مربوط به کدام گزینه است؟ (فراگیر)

(۱) قدر تشریعی (۲) قضای تشریعی (۳) قضای تکوینی (۴) قدر تکوینی

۱۷- کدام بعد از فطرت را شعور باطنی مینمایند؟ (فراگیر)

(۱) بعد معرفت شناسانه (۲) بعد عاطفی و گرایشی

(۳) همه ابعاد فطری (۴) بعد وجودی و هستی شناسی

۱۸- در آیه کریمه (کل شیء هالک الا وجهه) مقصود مفسران از وجه الله کدام است؟ (فراگیر)

(۱) وجود الهی (۲) ذات الهی (۳) بقا و ابدیت (۴) فنا ناپذیری

۱۹- یکی از اسامی قیامت یوم الازفه به چه معناست؟ (فراگیر)

(۱) بسیار نزدیک (۲) جدایی حق از باطل (۳) جمع شدن (۴) خارج شدن از قبور

۲۰- کدام گزینه صحیح است؟ (فراگیر)

(۱) ذات الهی قابل شناخت است

(۲) صفات و اوصاف الهی شناخت ناپذیرند

(۳) خداشناسی از رهگذر اوصاف و افعال الهی برای انسان میسر است

(۴) آدمی از هر گونه معرفتی نسبت به خدا محروم است

## زبان و ادبیات فارسی

۲۱- مفهوم نزدیکتر این شعر سهراب سپهری: «سنگ از پشت نمازم پیداست / همه ذرات نمازم متبلور شده است» در کدام

گزینه آمده است؟ (بانک صادرات)

(۱) به خوبی همه جا را می بینم؛ حتی زیبایی و لطافت را در سنگ می یابم.

(۲) خلوص نیت دارم و نمازم سرشار از لطافت و زیبایی است.

(۳) همه چیز را در آن می دانم و نماز موجب روشنی و بیداری دل من است.

(۴) در نمازم اخلاص می ورزم و نمازم سرشار از حق طلبی و بیداری است.

۲۲- در عبارت «سیاست کلی سلاجقه و امرای پیش از آنان بر حمایت از شعر و ادب فارسی استوار نبود و اگر آنها به ویژه از

دوره ی سنجره بعد برای جلب نظر شاعران و صاحب دلان فراغتی هم به دست می آوردند به دلیل بیگانگی با فرهنگ و زبان

ایران، به این کار علاقه ای نشان نمی دادند.»

بعد از واژه های «آن ها» و «بعد» کدام علامت نگارشی مناسب است؟ (بانک صادرات)

(۱) کمانک (۲) ویرگول (۳) نقطه ویرگول (۴) خط فاصله

### ۲۳- کدام جمله از نظر نگارش غلط است؟ (بانک صادرات)

- (۱) پیامبر(ص) فرمودند  
(۲) دلها با یاد خدا آرامش می بابند.  
(۳) استاد از دانشمندان معروف هستند.  
(۴) انسانهای پاک رستگار می شود.

### ۲۴- در کدام گروه واژه غلط املایی یافت می‌شود؟ (بانک ملی)

- (۱) روضه و باغ- ضربه و زخمه- قسیم و صاحب جمال  
(۲) مغان و موبدان- تعلل و تعویق- احوال و درنگ کردن  
(۳) شیهه و آواز اسب- مستعجل و زودگذر- تلقی و تعبیر  
(۴) حیثیت و آبرو- بطالت و کاهلی- حزین و غم انگیز

### ۲۵- ابیات زیر، یادآور کدام ضرب المثل است؟ (بانک ملی)

- «چه خوش نازی است ناز خوب رویان ز دیده رانده را در دیده جویان  
به چشمی طیرگی کردن که برخیز به دیگر چشم دل دادن که مگریز»  
(۱) با دست پس می‌زند با پا پیش می‌کشد (۲) زر بر سر فولاد نهی نرم شود  
(۳) با درد بساز تا به درمان برسی (۴) این ره که تو می‌روی سراب است

### ۲۶- در متن زیر، کدام نشانه گذاری «نادرست» است؟ (بانک ملی)

عاقلی را پرسیدند: (نیکبخت کیست و بدبخت چیست؟) گفت «نیک بخت آن که خورد و کشت و بدبخت آن که مرد و هشت.»

- (۱) علامت سؤال (؟) (۲) پرانتز ( ) (۳) گیومه «» (۴) دو نقطه (:)

### ۲۷- قالب شعری شاهنامه فردوسی چیست؟ (بانک تجارت)

- (۱) قطعه (۲) قصیده (۳) مثنوی (۴) غزل

### ۲۸- در کدام کلمه یکی از دو حرف نزدیک به هم ، حذف شده است؟ (بانک تجارت)

- (۱) همگان (۲) شب گیر (۳) یکسان (۴) یگانه

### ۲۹- کدام یک از نامه های زیر از نظر کاربرد با سایرین متفاوت میباشد؟ (بانک تجارت)

- (۱) نامه های وارده (۲) نامه های رسیده (۳) نامه های واصله (۴) نامه های صادره

### ۳۰- «استیفا» یعنی: (بانک صادرات)

- (۱) بازستدن به طور کامل (۲) بی نیازی  
(۳) چیرگی (۴) کناره گیری از کار

### ۳۱- مفهوم « گرایش انسان به زهد ریشه ای در آزادمنشی دارد» یعنی: (بانک صادرات)

- (۱) آزادگی بنیاد زهد است. (۲) آزادمنشی نتیجه زهد است.  
(۳) انسان از زهد به آزاد منشی می‌گراید. (۴) زهد ریشه آزادی است.



۳۲- علامت گیومه در همه گزینه ها به جز گزینه ..... درست به کار رفته است. (بانک صادرات)

(۱) اقبال از نوع شاعرانی است که «کواکبی» آنها را ستود

(۲) علامت «جات به عنوان» نشانه جمع در فارسی، پسندیده نیست

(۳) عنوان «وکالتنامه» بر بالای وسط صفحه نوشته می شود

(۴) و بار دیگر او را به «خودش» مؤمن سازد

۳۳- (یک سو) در بیت زیر به چه معناست؟ (پست بانک)

"به هستیش باید که خستو شوی / ز گفتار بیکار یکسو شوی"

(۱) برکنار (۲) شیوا (۳) متفق القول (۴) یک صدا

۳۴- ژاژ خواهی کنایه از چیست؟ (پست بانک)

(۱) غیبت (۲) بیهودگی (۳) فاش کردن اسرار (۴) راست گویی

۳۵- قالب شعری ابیات زیر چیست؟ (پست بانک)

"منشین با بدان که صبحت بد / گرچه پاکی ، تو را پلید کند

آفتابی به این بزرگی را / پاره ای ابر ناپدید می کند"

(۱) دوبیتی (۲) رباعی (۳) چهارپاره (۴) قطعه

۳۶- موضوع کتب سبک شناسی ملک الشعرای بهار کدام گزینه است؟ (پست بانک)

(۱) تطور نثر فارسی (۲) وزن شعری

(۳) بررسی سبک استان های فارسی (۴) تحول شعر فارسی

۳۷- "سرو غاتفر" نماد کدام صفت است؟ (پست بانک)

(۱) پایداری (۲) آزادگی (۳) تنهایی (۴) راستی و درستی

۳۸- فعلی که انجام دادن کاری در حال رخ دادن در زمان حال نشان می دهد کدام است؟ (پست بانک)

(۱) مضارع ملموس (۲) فعل مستقبل (۳) مضارع التزامی (۴) ماضی ملموس

۳۹- در جمله "زمین مر جبرئیل را سوگند داد"، "مر" از نظر دستوری کدام است؟ (پست بانک)

(۱) از ادات تاکید مفعول (۲) زائد

(۳) پیشوند (۴) حرف ربط

۴۰- کدام لغت به شکل صحیح معنی نشده است؟ (پست بانک)

(۱) صله: بخشش (۲) بدعت: رسم تازه

(۳) خستو: معترف (۴) حرمان: جدایی

## اطلاعات عمومی و دانش اجتماعی

۴۱- رتبه نفت و گاز ایران در جهان چیست؟ (بانک ملت)

- (۱) دوم - اول (۲) اول - دوم (۳) دوم - سوم (۴) سوم - دوم

۴۲- قلب دارای چند دریچه می باشد؟ (بانک ملت)

- (۱) ۴ (۲) ۲ (۳) ۶ (۴) ۵

۴۳- جزیره ای ایرانی که در دریای عمان وجود دارد، کدام است؟ (بانک ملت)

- (۱) خارک (۲) لاوان (۳) شیطان (۴) هنگام

۴۴- مرز بازرگان، بین ایران و کدام کشور است؟ (بانک ملی)

- (۱) ترکیه (۲) آذربایجان (۳) عراق (۴) جمهوری نخجوان

۴۵- باغ شاهزاده ماهان، از جاذبه‌های گردشگری کدام استان است؟ (بانک ملی)

- (۱) فارس (۲) کرمان (۳) اصفهان (۴) تهران

۴۶- اولین قانون برنامه توسعه اقتصادی اجتماعی ایران بعد از پیروزی انقلاب اسلامی در چه سالی به تصویب رسید؟ (بانک ملی)

- (۱) ۱۳۶۹ (۲) ۱۳۵۸ (۳) ۱۳۵۹ (۴) ۱۳۶۸

۴۷- از نظر امام خمینی (ره)، وحدت واقعی نشانه کدام مورد زیر است؟ (بانک ملی)

- (۱) استقرار دین در جامعه (۲) صداقت اسلامی

- (۳) عدل و عدالت اسلامی (۴) نفوذ دین در مردم

۴۸- به ترتیب، عملیات شکست حصر آبادان و رمز این عملیات در جنگ تحمیلی کدام است؟ (بانک ملی)

- (۱) ثامن الائمه - نصر من و فتح قریب (۲) فتح المبین - یا زهرا

- (۳) فتح المبین - نصر من الله و فتح قریب (۴) ثامن الائمه - یا زهرا

۴۹- انعقاد کدام عهدنامه بین ایران و روسیه، حق کشتیرانی در دریای خزر را در انحصار روسیه قرار داد؟ (بانک ملی)

- (۱) ارزنة الروم (۲) گلستان (۳) ترکمنچای (۴) اخال

۵۰- علت اصلی انتقال ساختمان سنی از جوان به سالخورده، کدام است؟ (بانک ملی)

- (۱) افزایش ناگهانی مرگ و میر (۲) استمرار مهاجرت

- (۳) کاهش مستمر باروری (۴) افزایش معضلات اقتصادی

۵۱- کتاب شهریار، اثر کدام نویسنده زیر است؟ (بانک ملی)

- (۱) ماکیاولی (۲) کریمی افشین (۳) بهجت تبریزی (۴) ارسطو

۵۲- بعد از افشاریان کدام سلسله بر ایران حکومت کردند؟ (فراگیر)

- (۱) صفویان (۲) قاجاریان (۳) زندیان (۴) مرعشیان

۵۳- علامت اختصاری سازمان جهانی خواروبار کشاورزی چیست؟ (فراگیر)

WHO (۴)      FAO (۳)      WTO (۲)      FWO (۱)

۵۴- مفهوم دو اصطلاح ((آنارشسیسم)) و ((لائیک)) در کدام گزینه بیان شده است؟ (فراگیر)

(۱) تجدد گرایی - بدون دین و مذهب      (۲) آزادی خواهی - جدایی دین از سیاست

(۳) نداشتن دین و حکومت - بدون دین و مذهب      (۴) آزادی خواهی - تجدد گرایی

۵۵- تابلو نقاشی ((ضامن آهو)) از آثار کدام یک از اساتید زیر است؟ (فراگیر)

(۱) محمود فرشچیان      (۲) صادق بیک افشار

(۳) کمال الملک      (۴) حسین بهزاد

۵۶- کشور.....بعد از عراق بیشترین مرز خاکی با ایران دارد. (فراگیر)

(۱) پاکستان      (۲) افغانستان      (۳) آذربایجان      (۴) ترکمنستان

۵۷- روز ۹ ذی الحجه مصادف با کدام یک از روزهای زیر است؟ (فراگیر)

(۱) عید قربان      (۲) آغاز مناسک حج      (۳) روز عرفه      (۴) روز مباهله

۵۸- شرکت ملی نفت ایران، سازمان گسترش و نوسازی صنایع ایران، بانک مرکزی، بانک ها و بیمه های دولتی از کدام نوع

نهادهای زیر می باشند؟ (فراگیر)

(۱) دستگاه های اجرایی      (۲) شرکت های ملی

(۳) شرکت های خصوصی      (۴) نهادهای عمومی غیر دولتی

۵۹- آیه شریفه «وَإِنْ يَكَادُ الَّذِينَ كَفَرُوا لَيُزْلِقُونَكَ بِأَبْصَارِهِمْ لَمَّا سَمِعُوا الذِّكْرَ وَ يَقُولُونَ إِنَّهُ لَمَجْنُونٌ وَ مَا هُوَ إِلَّا ذِكْرٌ لِلْعَالَمِينَ»

در کدام سوره قرآن وجود دارد؟

(۱) آل عمران      (۲) طه      (۳) بقره      (۴) قلم

۶۰- ماه های حرام کدامند؟

(۱) محرم - رجب - ذیقعد - ذیحجه      (۲) محرم - شوال - رجب - ذیحجه

(۳) محرم - صفر - ذیقعد - ذیحجه      (۴) محرم - ذیقعد - ذیحجه - شوال

## ◀ قوانین و مقررات اداری و قانون اساسی

۶۱- کدام یک از امور زیر حاکمیتی نیست؟

(۱) ایجاد فضای سالم برای رقابت و جلوگیری از انحصار و تضییع حقوق مردم

(۲) آموزش و پرورش عمومی و فنی و حرفه ای

(۳) برقراری عدالت و تامین اجتماعی و باز توزیع درآمد

(۴) فراهم نمودن زمینه ها و مزیت های لازم برای رشد و توسعه کشور و رفع فقر و بیکاری

## ۶۲- اضافه کار بر اساس کدام عامل پرداخت می گردد؟

- (۱) حساسیت خدمات
- (۲) اهمیت خدمات
- (۳) حجم و کیفیت خدمات
- (۴) همه موارد

## ۶۳- مشخصه ای که براساس آن شاخص های سنجش و ارزشیابی برای امتیاز دهی به عملکرد تهیه می گردد کدام است؟

- (۱) محور ارزشیابی
- (۲) تشویقات
- (۳) معیار
- (۴) شاخص

## ۶۴- دوره خدمت در پست های مدیریت حرفه ای چند ساله می باشد؟

- (۱) دو
- (۲) سه
- (۳) چهار
- (۴) پنج

## ۶۵- ورود به خدمت و تعیین صلاحیت استخدامی افرادی که داوطلب استخدام در دستگاه های اجرایی می باشد بر چه اساسی

صورت می گیرد؟

- (۱) مجوزهای صادره
- (۲) تشکیلات مصوب

- (۳) رعایت مراتب شایستگی و برابری فرصت ها
- (۴) همه موارد

## ۶۶- بکارگیری کارمندان باز خریدی در دستگاه های اجرایی .....

- (۱) ممنوع
- (۲) بلامانع
- (۳) براساس نظر مدیر صورت می گیرد
- (۴) بستگی به شرایط دارد

## ۶۷- کدام یک از اهداف ارزشیابی عملکرد نمی باشد؟

- (۱) ارزشیابی و قضاوت در خصوص سطح عملکرد اختصاصی و عمومی مدیران و کارمندان بر اساس عوامل و معیارهای تعیین شده

- (۲) شناخت نقاط قوت و ضعف مدیران و کارمندان و استفاده از نتایج آن در تصمیم گیری

- (۳) ارزشیابی و حصول اطمینان از تحقق اهداف و برنامه های عملیاتی دستگاه های اجرایی در طول یک دوره معین

- (۴) افزایش رقابت بین کارمندان

## ۶۸- کدام گزینه از شروط تبدیل وضعیت استخدامی کارمند به رسمی پس از طی دوره آزمایشی سه ساله نیست؟

- (۱) کسب حداقل ۷۵ درصد از مجموع امتیازات
- (۲) طی دوره های آموزشی و کسب امتیازات لازم
- (۳) کسب نمره قبولی در آزمون ویژه
- (۴) تایید گزینش

## ۶۹- چه میزان مرخصی با حقوق برای کارمندان دستگاه های اجرایی در پایان سال قابل ذخیره کردن است؟

- (۱) نصف مرخصی
- (۲) کل مرخصی
- (۳) ۱۰ روز
- (۴) ۲۰ روز

## ۷۰- منظور از کارمند دستگاه های اجرایی کیست؟

- (۱) فردی است که بر اساس ضوابط و مقررات مربوط در شرکت های دولتی کار می کند

- (۲) منظور کارمندان و وزرای مشغول به کار در قوه قضاییه است .

۳) فردی است که بر اساس مقررات مربوط به موجب حکم و یا قرارداد مقام صلاحیت دار در دستگاه های قضایی مشغول به کار است .

۴) کارمندی که در بخش خدمات شرکت ها، مسئول فعالیت است .

۷۱- تشکیل شرکت های دولتی تحت هر عنوان صرفا با تصویب .....مجاز است.

۱) مجلس شورای اسلامی ۲) هیات وزیران

۳) اداره ثبت شرکت ها ۴) مجمع تشخیص مصلحت نظام

۷۲- چند روز مرخصی کاری با حقوق و مزایا در سال به کارمندان دستگاه های اجرایی تعلق می گیرد؟

۱) ۲۰ روز ۲) ۲۵ روز ۳) ۱۵ روز ۴) ۳۰ روز

۷۳- ..... مسئولیتی است که از لحاظ سلسله مراتب به طور مستقیم مسئولیت سرپرستی و ارجاع کار به ارزشیابی شونده را دارد و از وی گزارش دریافت می کند.

۱) ارزشیابی کننده ۲) مدیر بلافصل ۳) تایید کننده ۴) گزینه الف و ب

۷۴- کارمندانی که به صورت غیر منظم و بر حسب نوبت به صورت کشیک یا عناوین مشابه آن در هر یک حالت های زمانی عهده دار انجام مسئولیت های محوله باشند ..... .

۱) مشمول پرداخت فوق العاده نوبت کاری می شوند

۲) با رعایت مقررات مربوط از فوق العاده اضافه کار ساعتی برخوردار خواهد بود

۳) مشمول پرداخت فوق العاده نوبت کاری می شوند

۴) گزینه الف و ب

۷۵- کارمندان دستگاه های اجرائی می توانند در طول خدمت خود با موافقت دستگاه ذیربط حداکثر ..... از مرخصی بدون حقوق استفاده نمایند و اگر مرخصی برای ادامه تحصیلات عالی باشد تا ..... قابل افزایش خواهد بود.

۱) یک سال - یک سال ۲) دو سال - یک سال

۳) یک سال - دو سال ۴) سه سال - دو سال

۷۶- کدام گزینه غلط است؟

۱) پرداخت اضافه کاری بدون انجام کار اضافی وجاهت قانونی دارد

۲) پرداخت اضافه کاری بدون انجام کار اضافی به نظر مدیر سازمان بستگی دارد

۳) پرداخت اضافه کاری تنها در قبال انجام کار اضافی در ساعات اداری مجاز می باشد

۴) پرداخت اضافه کاری بدون انجام کار اضافی در حکم تصرف غیرقانونی وجوه و اموال عمومی است

۷۷- کارمندان می توانند با موافقت دستگاه اجرائی ساعات کار خود را تا حداکثر چند ساعت تقلیل دهند؟

۱) ۸ ساعت ۲) ۴ ساعت ۳) ۱۱ ساعت ۴) ۶ ساعت

## ۷۸- کدام گزینه صحیح می باشد؟

- (۱) در به کارگیری و جذب نیروی انسانی جدید و مورد نیاز توسط واحد مجری اولویت با نیروی انسانی جدید است .  
 (۲) کاهش قانونی حقوق و مزایای کارکنان واحد مجری در دوره اجرای تفاهم نامه به عنوان تعهدات دستگاه در تفاهم نامه منظور و توسط دستگاه اجرای تأمین می شود.  
 (۳) هزینه های ناشی از انعقاد تفاهم نامه نباید از مجموع اعتبارات هزینه های که در بودجه مصوب سالانه پیش بینی شده است، تجاوز کند.  
 (۴) موارد الف و ب

## ۷۹- چه میزان مرخصی با حقوق سالانه کارمندان در دستگاه های اجرائی در طول سال قابل ذخیره کردن است؟

- (۱) کل مرخصی ها (۲) ۲۰ روز (۳) نصف مرخصی ها (۴) ۱۰ روز  
 ۸۰- حداقل چند ماه پیش از پایان اعتبار گواهینامه متقاضیان تمدید گواهینامه صلاحیت خدمات مشاوره مدیریتی باید درصدد تمدید آن برآیند؟

- (۱) حداقل ۲ ماه پیش از پایان اعتبار گواهینامه  
 (۲) دو ماه پس از انقضای اعتبار گواهینامه  
 (۳) حداقل یک ماه پیش از پایان اعتبار گواهینامه  
 (۴) یک ماه پس از انقضای اعتبار گواهینامه

## ریاضی و آمار مقدماتی

۸۱- اگر  $2^x = 4\sqrt{2}$  و  $8^y = (\frac{1}{4})^{y-1}$  باشد. حاصل  $xy$  کدام است؟ (بانک ملی)

- (۱)  $\frac{4}{3}$  (۲) ۱ (۳) ۲ (۴)  $\frac{2}{5}$

۸۲- اگر  $A = \{1, 3, 3\}$  و  $B = \{2, 3, 4\}$  باشد. مجموعه  $(A-B)-(B-A)$  کدام است؟ (بانک ملی)

- (۱)  $\emptyset$  (۲)  $\{2, 3\}$  (۳)  $\{4\}$  (۴)  $\{1\}$

۸۳- اگر تابع  $f = \{(1, 2), (3, 6), (-2, 5), (7, 11)\}$  و تابع  $g = \{(1, 0), (2, -1), (5, 11), (6, 9)\}$  باشد، برد تابع  $g \circ f$  چند عضو دارد؟ (بانک ملی)

- (۱) ۴ (۲) ۱ (۳) ۲ (۴) ۳

۸۴- هر گاه معادله های  $x^2 + 3x + a = 0$  و  $x^2 - x - 2a = 0$  دارای یک ریشه مشترک غیرصفر  $\alpha$  باشند مقدار  $\left[\frac{\alpha}{2}\right]$  کدام است؟ (بانک ملی)

- (۱) ۱ (۲) -۲ (۳) -۱ (۴) صفر

۸۵- جمله چهارم در دنباله هندسی  $\dots, 3x+3, 2x+2, x$  کدام است؟ (بانک ملی)

- (۱)  $-\frac{27}{3}$  (۲) ۲۷ (۳) -۲۷ (۴)  $\frac{27}{3}$

۸۶- حاصل  $\int_1^4 \frac{2x^3 - \sqrt{x}}{x^2} dx$  کدام است؟ (بانک شهر)

- (۱) ۱۲ (۲) ۱۳ (۳) ۱۴ (۴) ۱۵

۸۷- حاصل  $\int_{-1}^1 (|2x| - [x]) dx$  کدام است؟ (نماد [ ] به مفهوم جزء صحیح است.) (بانک شهر)

- (۱)  $\frac{5}{2}$  (۲) ۳ (۳)  $\frac{7}{2}$  (۴) ۴

۸۸- حاصل  $\int_0^{\pi} \frac{dx}{\sqrt{1+\tan^2 x}}$  برابر کدام است؟ (بانک شهر)

- (۱) ۱ (۲) ۲ (۳)  $\pi$  (۴) صفر

۸۹- حاصل  $\int_0^{2\pi} \sqrt{2-2\cos x} dx$  کدام است؟ (بانک شهر)

- (۱) ۲ (۲) ۴ (۳) ۶ (۴) ۸

۹۰- با شرط  $x \neq k\pi + \frac{\pi}{4}$  کدام است؟  $\int \frac{\cos 2x}{\cos x - \sin x} dx$  (بانک شهر)

- (۱)  $\sin x + \cos x + C$  (۲)  $\sin x - \cos x + C$   
(۳)  $-\sin x + \cos x + C$  (۴)  $-\sin x - \cos x + C$

۹۱- حاصل عبارت  $(\sqrt{3} - \sqrt{3})(\sqrt{12} + 6\sqrt{3})$  کدام است؟ (فراگیر)

- (۱)  $\sqrt[3]{3}$  (۲)  $\sqrt{6}$  (۳)  $\sqrt{3}$  (۴)  $\sqrt{2}$

۹۲- مجموعه  $A = \{a | \sqrt{a} \in \mathbb{N}, \sqrt{a} < 8\}$  و  $B = \{x^2 | x = -1, -2, -3, \dots\}$  است. مجموعه  $A \cap B$  چند عضو دارد؟ (فراگیر)

- (۱) عضوی ندارد (۲) ۸ (۳) ۷ (۴) ۱

۹۳- در یک دنباله حسابی، جمله دوم و قدر نسبت با هم برابرند. جمله سیزدهم، چند برابر جمله ششم است. (فراگیر)

- (۱)  $2/4$  (۲)  $2/1$  (۳)  $2/2$  (۴)  $2/3$

۹۴- طول قسمتی از منحنی  $y = 1 + [3x - 1]$ ، در بازه  $[0, 1]$  کدام است؟ (فراگیر)

- (۱)  $5\sqrt{2}$  (۲)  $3\sqrt{10}$  (۳)  $\sqrt{10}$  (۴)  $2\sqrt{2}$

۹۵- اگر  $2x + 3a = 60$  باشد، بیشترین مقدار تابع  $y = ax + 200$  کدام است؟ (فراگیر)

- (۱) ۱۵۰ (۲) ۳۵۰ (۳) ۲۵۰ (۴) ۲۰۰

۹۶- اگر باقیمانده تقسیم چند جمله‌ای  $4 + ax^2 + x^4$  بر  $x^2 - 2$  برابر ۶ باشد. باقیمانده تقسیم این چند جمله‌ای بر  $x + 2$

کدام است؟ (فراگیر)

- (۱) ۱۶ (۲) ۶ (۳) ۸ (۴) ۱۲

۹۷- در خصوص ریشه‌های معادله  $\frac{\sqrt{2x^2 - 5x + 2}}{x - 2} = -1$ ، کدام مورد صحیح است؟ (فراگیر)

(۱) ریشه حقیقی ندارد.

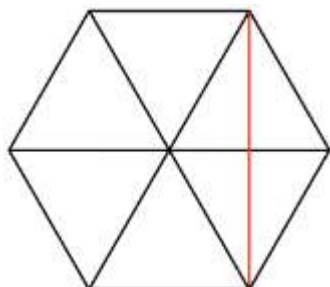
(۲) دو ریشه مختلف علامت دارد.



(۳) فقط یک ریشه مثبت دارد.

(۴) فقط یک ریشه منفی دارد.

۹۸- چه تعداد از زیرمجموعه‌های رابطه  $R = \{(V, -1), (A, -1), (V, 4)\}$ ، تابع هستند؟ (فراگیر)



(۱) ۶

(۲) ۳

(۳) ۴

(۴) ۵

۹۹- مساحت شش ضلعی منتظمی به ضلع  $\sqrt{12}$ ، چند برابر طول کوچک‌ترین قطر این شش ضلعی است؟ (فراگیر)

(۴)  $6\sqrt{3}$

(۳)  $3\sqrt{3}$

(۲)  $3\sqrt{3}$

(۱)  $12\sqrt{3}$

۱۰۰- اگر  $\{f(\sin x) + 2f(\cos x) = 3 \sin^2 x\}$  باشد، ضابطه تابع  $f(x)$  کدام است؟ (فراگیر)

(۴)  $3x^2 - 3$

(۳)  $2 - 2x^2$

(۲)  $3x^2 - 2$

(۱)  $3 - 2x^2$

## توانمندی های ذهنی و ویژگی های رفتاری

۱۰۱- یک ساعت دیواری در ساعت ۳، تعداد سه زنگ می زند و مدت زنگ ۳ ثانیه طول می کشد اگر این ساعت در ساعت ۹

تعداد نه زنگ بزند مدت زنگ چند ثانیه طول خواهد کشید؟ (بانک مهر اقتصاد)

(۴) ۱۲

(۳) ۱۱

(۲) ۹

(۱) ۱۰

۱۰۲- اگر دو زاویه متوالی یک چهار ضلعی هر دو قائمه و دو ضلع آن با هم مساوی باشد آن چهار ضلعی: (بانک مهر اقتصاد)

(۳) حتما مستطیل نیست

(۱) حتما مستطیل است

(۴) ممکن است دوزنقه یا مستطیل باشد.

(۲) حتما دوزنقه است

۱۰۳- اگر عدد دو رقمی را بر عکس ترتیب ارقام آن بنویسیم، عدد حاصل مربع مجموع ارقام آن خواهد شد ، تفاضل دو رقم

آن در کدام گزینه است؟ (بانک مهر اقتصاد) (متعلق به سایت ایران عرضه)

(۴) ۷

(۳) ۶

(۲) ۵

(۱) ۴

۱۰۴- رابطه فصل با سال مثل رابطه: (بانک ملت)

(۲) روز است با هفته

(۱) ماه است با فصل

(۴) جزء است با کل

(۳) چارک است با من

۱۰۵- متر به پارچه مانند کیلو است به: (بانک ملت)

(۴) برنج

(۳) نفت

(۲) کتاب

(۱) وزن

۱۰۶- متضاد کلمه اسراف کدام است: (بانک ملت)

(۴) تبذیر

(۳) اسرار

(۲) امساک

(۱) اکناف

۱۰۷- کدام ترکیب، مناسبت کمتری با سه ترکیب دیگر دارد؟ (بانک شهر)

(۱) جاذب و مجذوب (۲) فاضل و معزول (۳) قادر و مقدور (۴) ناقل و منقول

۱۰۸- حاصل جمع کدام عدد با تصویرش در آینه، عددی فرد خواهد بود؟ (بانک شهر)

(۱) ۱۵ (۲) ۱۷ (۳) ۱۸ (۴) ۷۱

۱۰۹- آنچه که از ارزش واقعی چیزی بکاهد: (بانک شهر)

(۱) انتقاد (۲) شایعه (۳) فراوانی (۴) نقص

۱۱۰- در کلاسی هیچ دو پسری در یک روز هفته متولد نشده‌اند. و هیچ دو دختری در یک ماه از سال، به دنیا نیامده‌اند. اگر

پسر یا دختر جدیدی وارد این کلاس شوند دست کم یکی از دو شرط بالا درست نخواهد بود. چند بچه در این کلاس هستند؟

(بانک قرض الحسنه مهر ایران)

(۱) ۱۸ (۲) ۱۹ (۳) ۲۰ (۴) ۲۴

۱۱۱- مجموع زاویه های یک چند ضلعی ۲۱۶۰ درجه است این چند ضلعی به ترتیب چند قطر و چند راس دارد؟ (بانک قرض

الحسنه مهر ایران)

(۱) ۷۰ و ۱۳ (۲) ۱۴ و ۷۵ (۳) ۷۵ و ۱۴ (۴) ۷۷ و ۱۴

۱۱۲- اگر  $x$  یک عدد صحیح مثبت و  $w$  یک عدد صحیح منفی باشد مقدار  $xw$  چقدر است؟ (بانک قرض الحسنه مهر ایران)

(I)  $x^w = 1/3$  (II)  $w^x = -1$

۱۱۳- به جمعیت یک شهر ۱۲۰۰ نفر اضافه میشود سپس ۱۱ درصد از جمعیت کم شد. در این حالت ۳۴ نفر از جمعیت اول

بیشتر است. جمعیت اولیه چند نفر بوده است؟ (بانک صادرات) (تهیه شده توسط ایران عرضه)

(۱) ۱۲۰۰ (۲) ۱۱۲۰۰ (۳) ۹۴۰۰ (۴) ۹۰۶۸

۱۱۴- رمز یک کیف چهار رقمی است را فراموش کرده ایم. اگر امتحان کردن هر رمز ۲۰ ثانیه طول بکشد، حداکثر چقدر زمان

لازم است تا کیف باز شود؟ (بانک صادرات)

(۱) ۵۵ ساعت (۲) ۵۵/۵ ساعت (۳) ۳۳ ساعت (۴) ۳۳/۶ ساعت

۱۱۵- برای کتابی با ۸۰۴ صفحه چند عدد سه رقمی استفاده کردیم؟ (بانک صادرات)

(۱) ۷۰۳ (۲) ۷۰۴ (۳) ۷۰۵ (۴) ۷۰۶

با توجه به متن به سه سوال زیر پاسخ دهید.

پنج نفر اروپایی با ملیت ها و زبان های متفاوت در یک کنفرانس در ژنو شرکت کرده اند. وضعیت این افراد از نظر زبان به

شرح زیر است.

- آقای x اسپانیایی و ایتالیایی صحبت می کند.

- آقای y اسپانیایی و انگلیسی را می فهمد

- آقای z انگلیسی و ایتالیایی صحبت می کند.

- آقای a فرانسه را خوب صحبت میکند و اسپانیایی را خوب می فهمد.

- آقای b ایتالیایی است و فرانسه را نیز صحبت می کند.

- تبعه هر کشور زبان آن کشور را هم می فهمد و هم صحبت می کند .

- کسانی که زبانی را صحبت میکنند آن را نیز می فهمد ولی کسانی که زبانی را می فهمند الزاماً آن را صحبت نمی کنند

۱۱۶- کدام یک از افراد زیر به عنوان مترجم آقای z و آقای a در گفتگوها می تواند عمل کند؟ (پست بانک)

(۱) فقط آقای b (۲) فقط آقای x (۳) آقای x و آقای b (۴) آقای y و آقای b

۱۱۷- کدام افراد میتوانند بدون مترجم با هم گفتگو کنند؟ (پست بانک)

(۱) y و x (۲) z و x (۳) b و y (۴) a و x

۱۱۸- دو زبان که در بین اعضاء این کنفرانس متداول تر است و افراد بیشتری با آن زبانها تکلم میکنند. یا آن را میفهمند.

کدامند؟ (پست بانک)

(۱) انگلیسی و اسپانیایی (۲) انگلیسی و ایتالیایی

(۳) اسپانیایی و ایتالیایی (۴) فرانسه و ایتالیایی

۱۱۹- خلبان های با تجربه معمولاً نسبت به خلبان های مبتدی در یادگیری پرواز با هواپیماهای فوق سبک مشکل بیشتری

دارند. زیرا آنها با هواپیما ها سنگین تر عادت دارند. خلبان با تجربه هنگام پرواز با هواپیماهای فوق سبک مسائل مربوط به

باد را کمتر رعایت میکنند. از جملات فوق استنباط می شود، هواپیماهای سنگین تر: (پست بانک)

(۱) با سختی بیشتری قابل هدایت هستند (۲) در باد راحت تر قابل هدایت هستند

(۳) در بین خلبانان پر طرفداری نیستند (۴) ایمنی کمتری دارند

۱۲۰- با چهار کلمه A, B, C, D چند کلمه سه حرفی میتوان ساخت به طوری که A و B کنار هم باشند؟ (پست بانک)

(۱) ۲۴ (۲) ۱۲ (۳) ۸ (۴) ۳

## زبان خارجه

121- Mina was chosen for the job because she was ..... to the others. (بانک ملت)

1) conscious 2) voluntary 3) fashionable 4) superior

122- Scientists are trying to find out when an earthquake occurs "occur" means ..... (بانک ملت)

1) include 2) continue 3) produce 4) happen

123- Mohsen and his brother are six feet tall. They are the same ..... (بانک ملت)

1) Height 2) Length 3) Weight 4) Width

124- He.....me before he took my car; I am annoyed. (بانک صادرات)

- 1) must ask      2) should ask      3) should have asked      4) must have asked

**125- Mary, listen! I have a concern to discuss with you. "Concern" means ..... (بانک صادرات)**

- 1) problem      2) contact      3) wonder      4) contract

**126- They had to cut through five hundred feet of.....to build the tunnel. (بانک صادرات)**

- 1) rock      2) layer      3) region      4) mantle

**127- He is going ..... it next week. (بانک سینا)**

- 1) to sell      2) sells      3) that sell      4) sell

**128- Oranges are a good..... of vitamin C. (بانک سینا)**

- 1) origin      2) production      3) location      4) Source.

**129- The Model T car, introduced in 1908..... \$850. (بانک سینا)**

- 1) was priced at      2) a price of      3) to be priced at      4) the price was

**130- It is important for her ..... a good job after graduation from university.**

(بانک قرض الحسنه مهر ایران)

- 1) to find      2) finding      3) that find      4) to finding

**131- My classmates and I try to ..... a close friendship that can last for years in the future.**

(بانک قرض الحسنه مهر ایران)

- 1) allow      2) educate      3) build      4) value

**132- If you want to make your speech effective, try to have eye ..... with your listeners.**

(بانک قرض الحسنه مهر ایران)

- 1) goal      2) design      3) touch      4) contact

**133- The property was ours. It ..... To us. (بانک صادرات)**

- 1) belong      2) belonged      3) belonging      4) dose not belong

**134- Some oh the ..... Are endangered animals. (بانک صادرات)**

- 1) whales      2) goats      3) ducks      4) cats

**135- Did you hear the news? They'll ..... a bridge for the village. (بانک صادرات)**

- 1) build      2) building      3) built      4) to build

**136- He was ..... to the hospital with acute appendicitis (پست بانک) .**

- 1) crashed      2) rushed      3) pressurized      4) activated

137- Your latest report. I'm ....., is not up to your usual standard (پست بانک) .

- 1) happy to say      2) frightened      3) afraid      4) jealous and envious

138- Are you going to ..... your house in London while you are aboard? (پست بانک)

- 1) let      2) hire      3) sale      4) dispose

139- The professor's ..... remarks caused him great embarrassment and he deeply regretted not having prepared his lecture (پست بانک)

- 1) complicated      2) wise      3) resurgent      4) malignant

140- The deadline for our assignment has been..... .Now we don't know when we'll submit it or if it will be submitted at all (پست بانک)

- 1) theoretical      2) identical      3) indefinite      4) infinite

## فناوری اطلاعات

۱۴۱- برای اینکه با اجرای Search تنها فایل ها و پوشه هایی که عیناً نام KH را دارند لیست شوند باید ..... (بانک مهر اقتصاد)

۱) در کادر: All or Part of file name عبارت "KH" را تایپ می کنیم .

۲) در کادر: A word or phrase in the file عبارت KH را تایپ می کنیم .

۳) در کادر: All or Part of file name عبارت را تایپ می کنیم .

۴) در کادر Look in کادر "KH" را تایپ می کنیم .

۱۴۲- تایپ قسمت http: / / در نوار آدرس ..... (بانک مهر اقتصاد)

۱) الزامی است      ۲) فقط برای سایتهای com الزامی است

۳) نیازی به تایپ نیست      ۴) فقط برای سایتهای غیر com الزامی است

۱۴۳- کدام یک از موارد زیر را پل ارتباطی بین کامپیوتر و اینترنت می نامند؟ (بانک مهر اقتصاد) {ا یر ا ن ع ر ض ه}

- ۱) IT      ۲) ISP      ۳) TTP      ۴) ISB

۱۴۴- کدامیک از موارد زیر مخصوص نگهداری حجم زیادی از اطلاعات است؟ (بانک ملت)

- ۱) صفحه گسترده      ۲) سیستم عامل      ۳) پایگاه داده      ۴) فایل

۱۴۵- هر نرم افزاری که اجرا می شود در کدام حافظه پردازش می شود؟ (بانک ملت)

- ۱) Rom      ۲) Hard Disk      ۳) Ram      ۴) CD- Drive

۱۴۶- CU کدام واحد است؟ (بانک ملت)

- ۱) محاسبه و منطق      ۲) کنترل      ۳) پردازشگر      ۴) پردازشگر مرکزی

۱۴۷- برای اتصال مانیتور با کامپیوتر از چه کارتی استفاده می شود؟ (بانک قرض الحسنه مهر ایران)

(۱) صدا (۲) مودم (۳) گرافیکی (۴) تونر

۱۴۸- پنجره My computer ..... (بانک قرض الحسنه مهر ایران)

(۱) حافظه ای برای نگهداری اطلاعات است

(۲) پنجره ای برای مدیریت و سازماندهی فایل ها، پوشه ها و درایورهاست

(۳) برنامه ای برای مدیریت سخت افزار است

(۴) برنامه ای برای سازماندهی تمام امور کامپیوتر است

۱۴۹- موضوع پیام در کدام قسمت نوشته می شود؟ (بانک قرض الحسنه مهر ایران)

(۱) To (۲) CC (۳) Subject (۴) BCC

۱۵۰- multitasking به چه معناست؟ (بانک صادرات)

(۱) استفاده هم زمان چندین کاربر از سیستم (۲) اجرای هم زمان چندین برنامه مختلف

(۳) اجرای هم زمان چندین سیستم عامل (۴) باز کردن هم زمان چندین پنجره در ویندوز

۱۵۱- معمولا از کدام دامنه جهت آدرس اینترنتی سازمان های دولتی استفاده می شود؟ (بانک صادرات)

(۱) com (۲) org (۳) gov (۴) ir

۱۵۲- خروجی تابع داده شده کدام است؟ (بانک صادرات)

Round (۱۱۵/۳۶۸,۳)

(۱) ۱۱۵/۳۶۸ (۲) ۱۱۵/۳۶۹ (۳) ۱۱۵ (۴) ۱۱۵/۳۶۰

۱۵۳- در نرم افزار Access فیلدی که مقدار آن بین تمام رکوردهای جدول یکتاست، ..... گویند.

(۱) Key Field (۲) Foreign Key (۳) Memo (۴) Index Field

۱۵۴- از کدام ابزار Word برای کپی قالب بندی کاراکتر یا پاراگراف مورد نظر به کاراکتر یا پاراگراف دیگر استفاده می شود؟

(۱) Copy (۲) Format Painter

(۳) Clip Board (۴) Replace

Replace (نادرست): ابزار Replace برای جایگزینی متن یا کاراکترها استفاده می شود، نه برای کپی قالب بندی.

۱۵۵- حافظه ای که بین CPU و RAM تعبیه و از آن برای بالا بردن سرعت دسترسی به داده ها استفاده می شود، چیست؟

(۱) ROM (۲) CACHE (۳) HARD (۴) EPROM

۱۵۶- کامپیوترهای شخصی جزو کدام یک از دسته بندی کامپیوترهای زیر می باشند؟

(۱) Mainframe (۲) Micro Computer

(۳) Mini Computer (۴) Super Computer

۱۵۷- نام پیش فرض فایل‌های Excel کدام گزینه می باشد؟

- (۱) Document (۲) Book (۳) Word book (۴) Work sheet

۱۵۸- برای حرکت بین کار پوشه‌های باز از چه روشی استفاده می‌شود؟

- (۱) سربرگ View گروه Window ابزار Split  
(۲) سربرگ View گروه Window ابزار New Window  
(۳) سربرگ View گروه Window ابزار Arrange All  
(۴) سربرگ View گروه Window ابزار Switch

۱۵۹- کدام یک از نوارهای زیر فقط در محیط Excel دیده می‌شود؟

- (۱) Address Bar (۲) Formula Bar (۳) Ribbon (۴) Quick Access

۱۶۰- در کدام روش برای ایجاد فایل نمایشی می‌توان از الگوهای موجود استفاده نمود؟

- (۱) Blank and recent (۲) Installed themes  
(۳) Install template (۴) New from existing